


عرض في كامل الشاشة

معلمك موقع

للإستفادة والحصول على العديد من الخدمات المجانية
ابحث عن تطبيق **معلمك التعليمي** في أحد المتاجر



أو قم بالبحث في محرك البحث قوقل

موقع معلمك التعليمي

أوراق عمل

المهارات الحياتية والأسرية

الصف الثاني الابتدائي

الفصل الدراسي الثالث

ورقة عمل

الدرس : السلامة داخل المدرسة

الصف : الثاني

السؤال الأول

ضعي علامة (صح) أو (خطأ) أمام العبارات التالية :

- ١ / يجب عدم التدافع على السلالم أثناء الصعود أو النزول ()
- ٢ / لا أمشي بهدوء عند الدخول أو الخروج من دورة المياه ()
- ٣ / من التصرفات الخاطئة إعاقة أو عرقلة الآخرين أثناء دخول الفصل أو الخروج منه ()

السؤال الثاني

صنفي التصرفات السليمة و التصرفات غير السليمة للسلامة داخل المدرسة فيما يأتي :

التصرفات السليمة

التصرفات غير السليمة

التدافع مع الآخرين عند دخول الفصل

الجلوس على الكرسي باستقامة

قذف الأدوات المنزلية على الآخرين

أتأكد من سلامة الباب قبل إغلاقه

احترم قواعد كل لعبة رياضية

قطع درجتين أو أكثر في أثناء استخدام السلالم

ورقة عمل

الدرس : كيف أتصرف إذا بقي معي نقود ؟

الصف : الثاني

السؤال الأول

ضعي علامة (صح) أو (خطأ) أمام العبارات التالية :

- ١ / يساعد الادخار على تأمين المتطلبات وعدم الحاجة للإقتراض من الآخرين ()
- ٢ / يجب أن أوفر مبلغ من المال للاستفادة منه عند الحاجة ()
- ٣ / الاستدانة هي صرف النقود بطريقة معينة
تمنك من اكتساب نقود إضافية ()

السؤال الثاني

صنفي التصرفات السليمة و التصرفات الخاطئة
فيما بقي معك من نقود :

التصرفات السليمة

التصرفات الخاطئة

أدخر جزءاً منه في
الحصالة

أشتري الأشياء
غير الضرورية

أتصدق بجزء منه

أقرض من يحتاج من
الأهل و الأصدقاء

أشتري الكثير من
الحلوى

أشتري الأشياء الباهضة
الثمن

كَيْفَ أَتَصَرَّفُ إِذَا بَقِيَ مَعِيَ نَقُودٌ؟

صِفِي مَا تَشَاهِدِينَ فِي الشُّكْلِ الْآتِي:



عَدَدُ الْعُمْلَةِ مِنْ فِتَّةِ الرَّيَالِ

وَفِتَّةِ الْخَمْسَةِ

الْعَشْرَةَ

إِذَا ادَّخَرْتِ كُلَّ يَوْمٍ رِيَالًا مِنْ مَصْرُوفِكَ الْمَدْرَسِيِّ،
فَكَمْ رِيَالًا تَدَّخِرِينَ فِي أُسْبُوعٍ؟



.....

كَيْفَ أَتَصَرَّفُ إِذَا بَقِيَ مَعِيَ نَقُودٌ؟

أَصِلُ التَّصَرُّفَ الْحَسَنَ وَالتَّصَرُّفَ الْمَذْمُومَ بِمَا يَنَاسِبُهُ مِنَ الْكَلِمَاتِ
وَالعِبَارَاتِ الْآتِيَةِ:

❶ شِرَاءُ الْهَدَايَا الْبَسِيطَةِ.

❷ شِرَاءُ الْقِصَصِ الْمُفِيدَةِ.

❸ الْإِدْخَارُ.

❹ الْإِسْرَافُ.

❺ الْإِكْثَارُ مِنَ الشِّرَاءِ.

❻ التَّصَدُّقُ.

❼ اِرْتِيَادُ الْمَطَاعِمِ بِاسْتِمْرَارٍ.



التَّصَرُّفُ الْحَسَنُ



التَّصَرُّفُ الْمَذْمُومُ


ورقة عمل الماء

اختار الإجابة الصحيحة

١- نحصل على الماء من



٢- أشياء تحتاج إلى الماء



٣- الصورة التي تمثل التصرف الصحيح



ورقة عمل الماء

أجب بـ (صح) أو (خطأ) :

١- نهانا الرسول صلى الله عليه وسلم عن الشرب من قم الاناء

خطأ

صح

- لا أتنفس في إناء الشرب :

خطأ

صح

- لا أحافظ على الماء وأسرف في استعماله


خطأ

صح

ورقة عمل الحليب

اختار الإجابة الصحيحة

١- من مصادر الحليب



٢- من منتجات الحليب



٣- التصرف الصحيح :



ورقة عمل الحليب

اختر بـ (نعم) أو (لا) :

١- أشرب الحليب كل صباح



٢- أضيف السكر بكثرة إلى الحليب



٣- أتناول الحليب في المدرسة



٤- اذكر اسم الله قبل الشرب

