

# ملزمة وأوراق عمل مادة العلوم




الصف الثاني الابتدائي  
الفصل الدراسي الثاني


الاسم : .....

الفصل : .....





التوصيات	التقييم		
			









## الدرس الأول ( اليابسة )

### أغلفة الأرض



٢\_ من خلال الصور التالية نحدد اشكال اليابسة :



٣- نصل بين المفردة والعبارة المناسبة لها :

أجزاء صغيرة من اليابسة محاطة بالماء من  
جميع الاتجاهات

قلرة

الأجزاء الكبيرة من اليابسة محاطة  
بالمحيطات

جزيرة





## الدرس الأول ( اليابسة )

١\_ نكمل الفراغات التالية بما يلي:

التلال

الوادي

الجبل

مختلفة

١\_ منطقة مرتفعة جدا من اليابسة .....

٢- اليابسة لها اشكال .....

٣\_ ..... ارض منخفضة بين الجبال والتلال

٤- مناطق مرتفعة ولكن أقل ارتفاع من الجبال .....



٢\_ من الشكل السابق احدد الى ماذا تشير الألوان؟





## الدرس الثاني ( الماء على الأرض )

١\_ من خلال الصور نضع إشارة ✓ تحت استخدامات الماء:



٢\_ هل العبارات التالية صحيحة؟

- ١\_ تغطي المحيطات ثلاثة ارباع الأرض (.....)
- ٢\_ من مصادر الماء العذب الابار (.....)
- ٣\_ توجد معظم مياه الأرض في الجبال (.....)

٣\_ الحيوان التالي لا يستطيع أن يشرب من:



الأنهار

المحيطات

العيون





# الفصل السادس (موارد الأرض) الدرس الأول (الصخور والمعادن)

١\_ نصل كل مفردة مع العبارة المناسبة:

أجزاء غير حية تتكون منها الصخور

الصخور



أشياء غير حية موجودة في الأرض

المعادن

٢\_ نربط بين صورة المعدن واستعمالاته:



موارد طبيعية



## الدرس الثاني ( التربة )

### ١\_ فصل كل صورة بالعبارة المناسبة :



تربة زراعية (سطحية) فيها كثير  
من النبال

تربة طينية

تربة رملية


### ٢\_ من خلال الصورة نكتب المطلوب

١\_ افضل طبقة لنمو النباتات :

.....

٢\_ تحتوي التربة السطحية على :

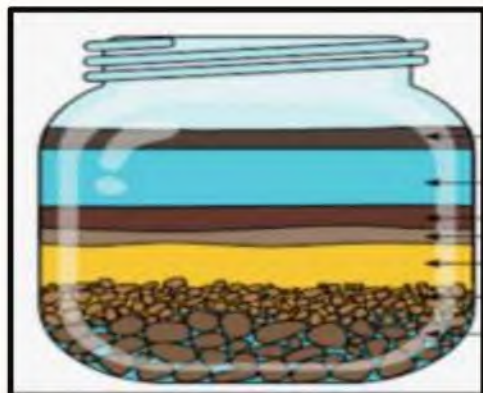
.....



## الدرس الثاني ( التربة )



# مما تتكون التربة؟



- ..... ١ -  
..... ٢ -

# (.....) تربة تحوي الكثير من بقايا النباتات

والحيوانات المتحللة



تختلف التربة في لونها وملمسها:



او







# الوحدة الرابعة (الفضاء)

الفصل السابع (الأرض والسماء)

التوصيات	التقييم		
			





## الدرس الأول ( الليل والنهار )

١\_ نصل بين المفردة والعبارة المناسبة لهما :

مسار تتبعه الأرض في أثناء دورانها

خط مركزي يدور حوله الجسم

محور الأرض

مدار الأرض

# توضح الصورة التالية :



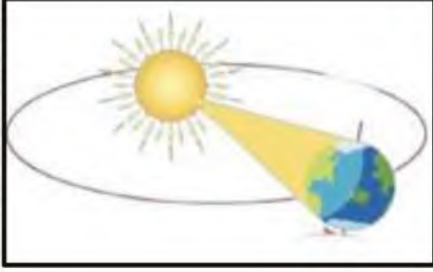
١\_ (.....)

٢\_ دورة الأرض الكاملة مدتها ..... ساعة .





## الدرس الأول ( الليل والنهار )



١- ماذا ينتج عن دوران الأرض حول الشمس ؟

٢- اختر الصورة التي تمثل الليل



(.....)



(.....)

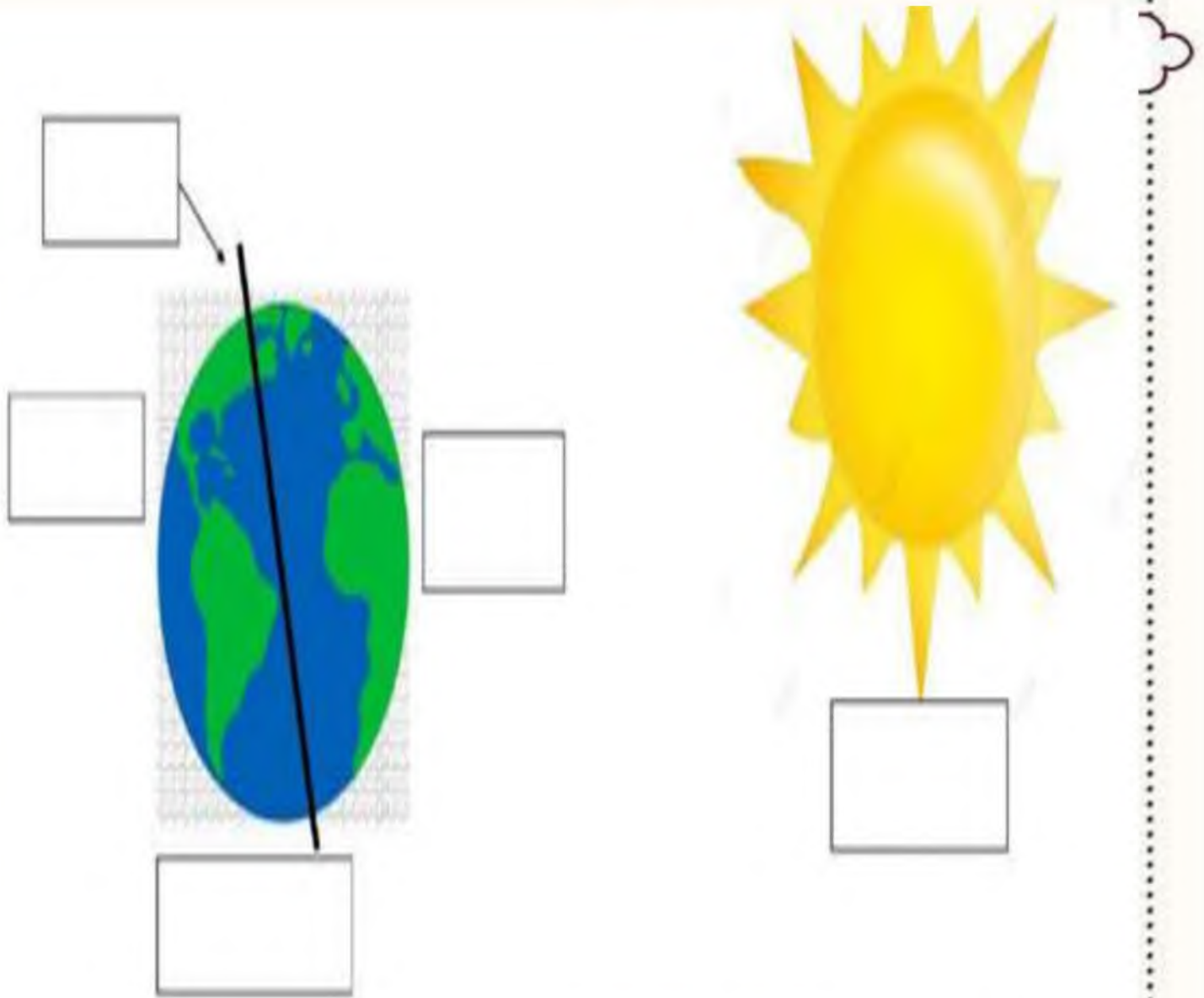
٣- من خلال الصور التالية ومشاهدة الظل نكتب الوقت المناسب :





## الدرس الأول ( الليل والنهار )

١- نكمل حسب المطلوب في الصورة:



الارض      الليل      الشمس      المحور      النهار





## الدرس الثاني ( سبب حدوث الفصول )

١- تحت كل صورة نكتب اسم الفصول الأربعة :



(.....) (.....) (.....) (.....)

٢- في الصورة التالية مالمظاهرة التي تنتج عن دوران الأرض حول الشمس



.....

٣- أجب عما يأتي بصح أو خطأ:

١- في الخريف يتغير لون أوراق الشجر (.....)

٢- تتساقط الثلوج في فصل الصيف (.....)



أو





# الفصل الثامن ( السماء ) الدرس الأول ( القمر والنجوم )

١- من خلال الكلمات التالية نكمل العبارات:

ثمانية

الكواكب

النجم

١\_ نظامنا الشمسي فيه..... كواكب

٢\_ ..... يصدر ضوء وحرارة

٣\_ ..... جسم كروي يدور حول نجم






٢- ماذا نسمي اشكال القمر خلال الشهر؟

.....  
.....



صفات النجوم






## الدرس الأول ( القمر والنجوم )



أو



النجوم كلها مضيئة (.....)



مَنْ أَنَا؟

نجم متوسط الحجم , يبدو  
كبيرا لأنه قريب من  
الأرض

(.....)





## الدرس الثاني ( النظام الشمسي )



١- مما يتكون نظامنا الشمسي؟

.....#

.....#

.....#

## أين كوكب الأرض





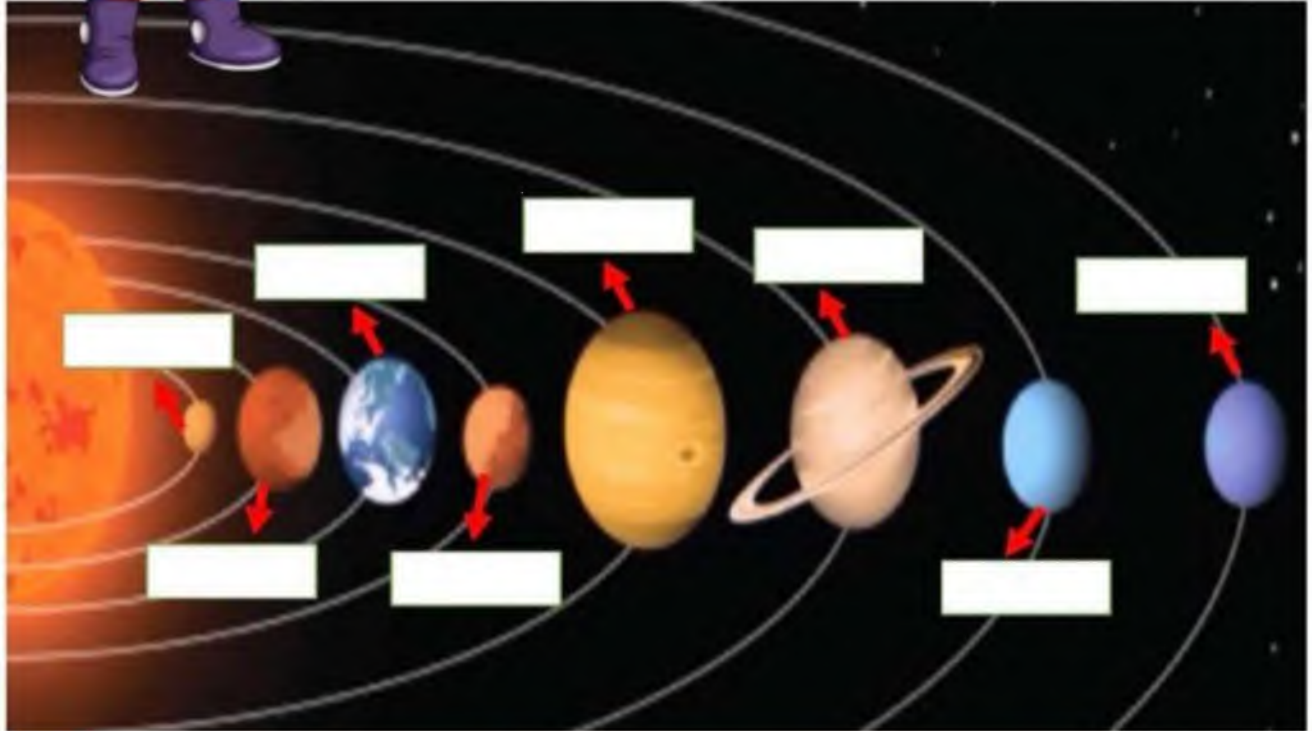


## الدرس الثاني ( النظام الشمسي )

١\_ مالذي يدور حول الشمس؟



الأرض عطارد زحل المشتري  
اورانوس نبتون الزهرة المريخ



٢\_ على الصورة السابقة ندون أسماء الكواكب في المكان المخصص





## الدرس الثاني ( النظام الشمسي )

١- نصل كل كوكب بالعبارة المناسبة له :

فيها ماء وهواء ولها قمر واحد



له حلقات حوله مكونة من الثلج والصخور



اكبر الكواكب وله ٦٣ قمرا



اسخن الكواكب حيث تحجب سحبه الكثيفة  
حرارة الشمس





# الدرس الثاني ( النظام الشمسي )

## اقرأ ولون



زحل



# الحلول

## ملزمة وأوراق عمل مادة العلوم

الصف الثاني الابتدائي  
الفصل الدراسي الثاني




الاسم: .....

الفصل: .....



# تقييم الوحدة



التوصيات	التقييم		
			





## الدرس الأول ( اليايسة )



٢\_ من خلال الصور التالية نحدد اشكال اليايسة :



...الوادي...



...البحر...



...صحراء...



...تلال...

3- نصل بين المفردة والعبارة المناسبة لها :

أجزاء صغيرة من اليايسة محاطة بالماء من جميع الاتجاهات

قارة

الأجزاء الكبيرة من اليايسة محاطة بالمحيطات

جزيرة





## الدرس الأول ( اليايسة )

١\_ نكمل الفراغات التالية بما يلي :

التلال

الوادي

الجبل

مختلفة

1\_ منطقة مرتفعة جدا من اليايسة .....**المجبل**.....

2- اليايسة لها اشكال ...**مختلفة**...

3\_ **الوادي**. ارض منخفضة بين الجبال والتلال

4- مناطق مرتفعة ولكن أقل ارتفاع من الجبال ...**التلال**..



٢\_ من الشكل السابق احدد الى ماذا تشير الألوان ؟



الماء

الصحراء

الجبال





## الدرس الثاني ( الماء على الأرض )

١\_ من خلال الصور نضع إشارة ✓ تحت استخدامات الماء :



(✓...)



(.....)



(✓...)



(✓...)



(✓...)

٢\_ هل العبارات التالية صحيحة؟

(✓...)

١\_ تغطي المحيطات ثلاثة ارباع الأرض

(✓...)

٢\_ من مصادر الماء العذب الابار

(✗...)

٣\_ توجد معظم مياه الأرض في الجبال

٣\_ الحيوان التالي لا يستطيع أن يشرب من :



العيون

المحيطات

الانهار







# الفصل السادس (موارد الأرض) الدرس الأول (الصخور والمعادن)

١\_ نصل كل مفردة مع العبارة المناسبة:

أجزاء غير حية تتكون منها الصخور

الصخور

أشياء غير حية موجودة في الأرض

المعادن

٢\_ نربط بين صورة المعدن واستعمالاته:



موارد طبيعية

هواء ، ماء

حيوان ، نبات



## الدرس الثاني ( التربة )

### ١\_ نصل كل صورة بالعبارة المناسبة :




تربة زراعية (سطحية) فيها كثير  
من الدبال

تربة طينية

تربة رملية

### ٢\_ من خلال الصورة نكتب المطلوب



١\_ افضل طبقة لنمو النباتات :

.....التربة السطحية.....

٢\_ تحتوي التربة السطحية على :

.....بقايا نباتات وحيوانات.....



## الدرس الثاني ( التربة )



# مما تتكون التربة



١- .....تفتت صخور ومعادن.....

٢- .....بقايا نباتات وحيوانات ميتة.....

# (.....للدبال.....) تربة تحوي الكثير من بقايا

النباتات والحيوانات المتحللة



تختلف التربة في لونها وملمسها:



أو





# الوحدة الرابعة ( الفضاء )

الفصل السابع ( الأرض والسماء )

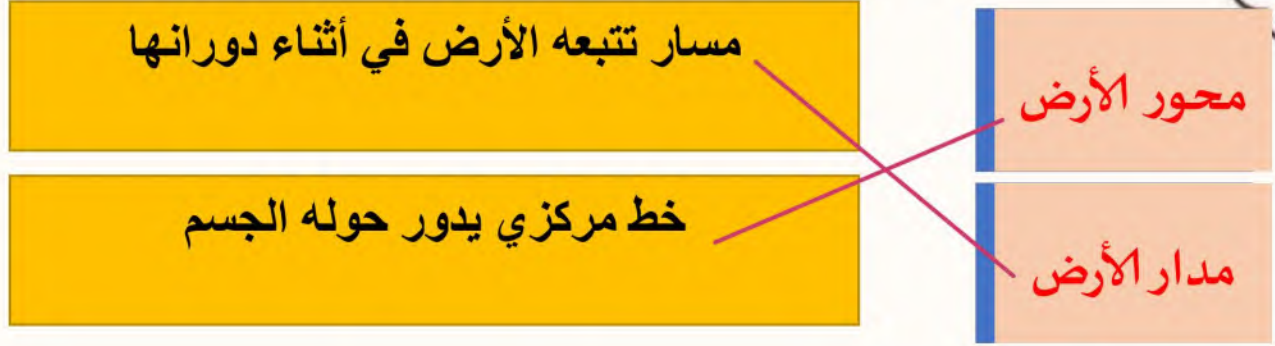
التوصيات	التقييم		
			






## الدرس الأول ( الليل والنهار )

١\_ نصل بين المفردة والعبارة المناسبة لها :



# توضح الصورة التالية :



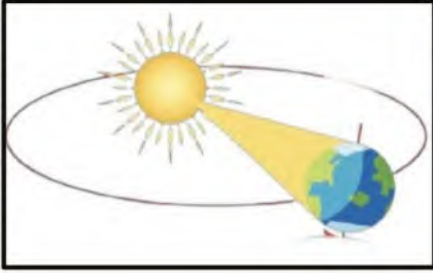
١\_ ( المحركة.الدورانية للأرض. )

٢\_ دورة الأرض الكاملة مدتها .....٢٤..... ساعة .





## الدرس الأول ( الليل والنهار )



1- ماذا ينتج عن دوران الأرض حول الشمس ؟

..... للفصول الأربعة .....

2- اختر الصورة التي تمثل الليل



(.....✓.....)



(.....)

3- من خلال الصور التالية ومشاهدة الظل نكتب الوقت المناسب :



٥:٣٠ ع



١٢:٠٠ ظ



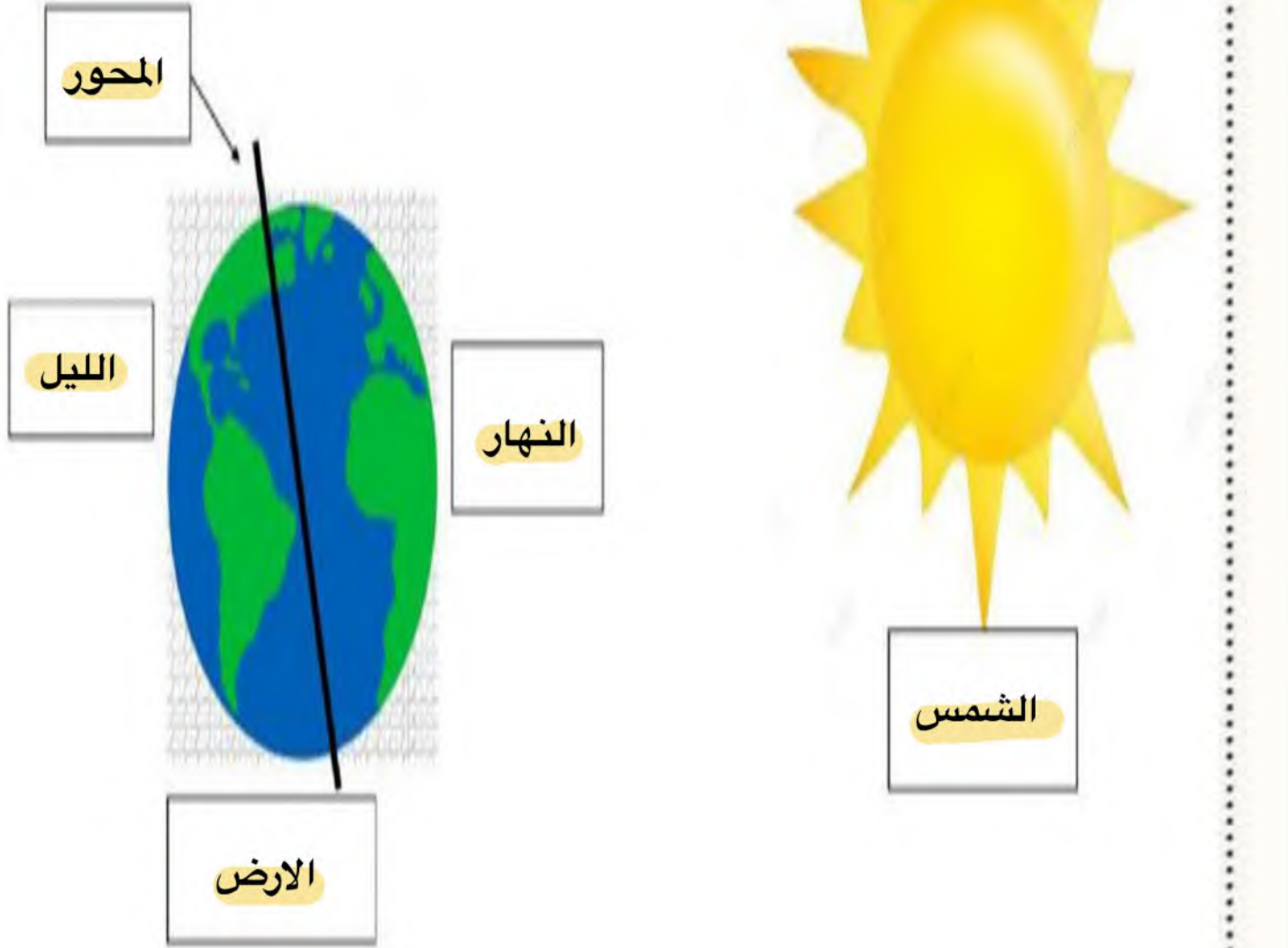
٨:٠٠ ص





## الدرس الأول ( الليل والنهار )

١- نكمل حسب المطلوب في الصورة :




الأرض      الليل      الشمس      المحور      النهار





## الدرس الثاني ( سبب حدوث الفصول )

١- تحت كل صورة نكتب اسم الفصول الأربعة :



(...الربيع....) (...الخريف...) (...الصيف...) (...الشتاء....)

٢- في الصورة التالية ملاحظة التي تنتج عن دوران الأرض حول الشمس



.....الفصول الأربعة.....

٣- أجب عما يأتي بصح أو خطأ:

١- في الخريف يتغير لون أوراق الشجر (.....) ✓

٢- تتساقط الثلوج في فصل الصيف (.....) ✗



أو







## الفصل الثامن ( السماء ) الدرس الأول ( القمر والنجوم )

١- من خلال الكلمات التالية نكمل العبارات:

ثمانية

الكواكب

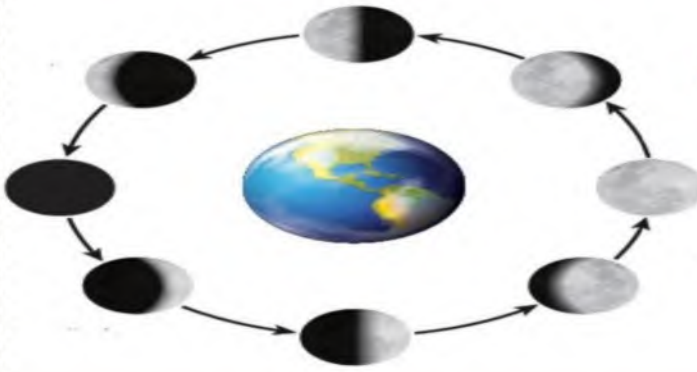
النجم

١- نظامنا الشمسي فيه.....**ثمانية**... كواكب

٢-.....**النجم**..... يصدر ضوء وحرارة

٣-.....**الكواكب**... جسم كروي يدور حول نجم

٢- ماذا نسمي اشكال القمر خلال الشهر



.....**اطوار القمر**.....

.....



صفات النجوم

**مضيء**

**لامع**






## الدرس الأول ( القمر والنجوم )



أو



النجوم كلها مضيئة ( ..... )



مَنْ أَنَا؟

نجم متوسط الحجم , يبدو  
كبيرا لأنه قريب من  
الأرض

( ..... الشمس ..... )





## الدرس الثاني ( النظام الشمسي )



١\_ مما يتكون نظامنا الشمسي ؟

..... الشمس .....#

..... كواكب .....#

..... أقمار .....#

# أين كوكب الأرض





## الدرس الثاني ( النظام الشمسي )

1\_ مالذي يدور حول الشمس؟

.....الكواكب.....



الأرض عطارد المشتري  
اورانوس نبتون الزهرة المريخ



2\_ على الصورة السابقة ندون أسماء  
الكواكب في المكان المخصص





## الدرس الثاني ( النظام الشمسي )

١- نصل كل كوكب بالعبارة المناسبة له :

فيها ماء وهواء ولها قمر واحد



له حلقات حوله مكونة من الثلج والصخور



اكبر الكواكب وله 63 قمرا



اسخن الكواكب حيث تحجب سحبه الكثيفة  
حرارة الشمس





## الدرس الثاني ( النظام الشمسي )

مترك للطلاب

### اقراء ولون



زحل

