

نموذج اسئلة الاختبار النهائي لمادة الدراسات الاجتماعية للفصل الدراسي الأول ١٤٤٧ هـ			
الصف	الأول المتوسط	عدد الاوراق	٤
الدرجة النهائية	٤٠ درجة	عدد الأسئلة	٣

درجة السؤال الاول	درجة السؤال الثاني	درجة السؤال الثالث	مجموع درجات الطالبة

المصححة		المراجعة	
التوقيع		التوقيع	

اسم الطالبة	
-------------	--

تعليمات هامة

- ✓ التوكل على الله وتذكرني حديث نبينا محمد صلى الله عليه وسلم حيث قال (من غشنا فليس منا)
- ✓ اكتب اسمك الرباعي كاملا في الصفحة الأولى وفصلك (أ أو ب) فقط
- ✓ تأكد من عدد الأسئلة انها ثلاثة أسئلة
- ✓ الكتابة تكون بالقلم الأزرق الجاف
- ✓ الالتزام بالهدوء في قاعة الاختبار
- ✓ تأكد من جوابك على جميع الأسئلة
- ✓ الخروج من قاعة الاختبار بعد مضي نصف الوقت

السؤال الأول ضعي علامة (v) أمام العبارة الصحيحة و علامة (x) أمام العبارة الخاطئة فيما يلي ؟

١	اول رائد فضاء عربي مسلم هو صاحب السمو الملكي الامير سلطان بن سلمان
٢	قامت حضارة بلاد الرافدين على نهر النيل
٣	أول بيت وضع للناس على وجه الارض هو (الكعبة المشرفة)
٤	ارتبطت الفنون والعمارة في الحضارة الاسلامية بالأمور الدينية
٥	اقرب الكواكب للشمس هو المريخ
٦	اهتم المسلمون بعلم التاريخ لارتباطه بغزوات النبي صلى الله عليه وسلم
٧	ديوان الرسائل مهمته الفصل بين الخصومات بين الناس
٨	حسن بن ثابت رضي الله (شاعر النبي صلى الله عليه وسلم)
٩	أستثمر النبي صلى الله عليه وسلم موسم الحج في الدعوة
١٠	كل أبناء النبي صلى الله عليه وسلم من السيدة خديجة ماعدا ابراهيم
١١	هاجر المسلمون الأوائل الى الحبشة .
١٢	حدثت ثلاثة بيعات في العقبة
١٣	اتسمت الحالة السياسية في شبة الجزيرة العربية قبل الاسلام بالصراعات والحروب
١٤	في شهر رمضان نزل جبريل عليه السلام على النبي محمد صلى الله عليه وسلم في غار حراء
١٥	حجَّ النبي محمد صلى الله عليه وسلم مرتين
١٦	أمَّ عمر بن الخطاب رضي الله عنه المسلمين في الصلاة لما مرض النبي محمد صلى الله عليه وسلم

١	أ	الكون	ب	درب التبانة	ج	الارض	د	الشمس	هو كل ما يحيط بنا من نجوم ومجرات ومخلوقات حية :
٢	أ	الحضارة اليونانية	ب	الحضارة الصينية	ج	الحضارة الفرعونية	د	الحضارة الاسلامية	تعد أقدم الحضارات واطولها زمنا في تاريخ العالم :
٣	أ	٢٩%	ب	٤٥%	ج	٦٠%	د	٧١%	يغطي الماء من سطح الارض مانسبته :
٤	أ	مربعة	ب	دائرة	ج	كروي	د	مسطحة	شكل الارض :
٥	أ	يدفنوا موتاهم	ب	يسكنوها	ج	للعادة	د	لاشيء مما ذكر	بنى المصريون القدماء الاهرامات وذلك لـ :
٦	أ	١٠ كواكب	ب	١١ كوكب	ج	٨ كواكب	د	٦ كواكب	عدد كواكب مجموعتنا الشمسية :
٧	أ	قارة أفريقيا	ب	قارة استراليا	ج	قارة أوروبا	د	قارة آسيا	أكبر القارات مساحة :
٨	أ	دائرة السرطان	ب	دائرة (خط الاستواء)	ج	الدائرة القطبية	د	دائرة الجدي	الدائرة الرئيسية والكبرى من دوائر العرض ودرجتها صفر وتقسم الكرة الارضية الى قسمين شمالي وجنوبي هي :
٩	أ	منطقة ٢٢	ب	منطقة ٢٣	ج	منطقة ٢٤	د	منطقة ٢٥	قسمت دول العالم الى منطقة زمنية :
١٠	أ	اللغة الفرنسية	ب	اللغة الانجليزية	ج	اللغة العربية	د	اللغة الصينية	تعد اللغة هي أثري اللغات وأكملها في المعاني والألفاظ وهي لغة القرآن الكريم :
١١	أ	الصيام	ب	الحج	ج	بر الوالدين	د	الصلاة	آخر وصايا النبي محمد صلى الله عليه وسلم قبل وفاته :
١٢	أ	ابراهيم	ب	فاطمة	ج	القاسم	د	عبدالله	كل أبناء النبي محمد صلى الله عليه وسلم الذكور و الاناث من السيدة خديجة رضي الله عنها عدا :
١٣	أ	حليمة السعدية	ب	جده عبدالمطلب	ج	عمه ابوطالب	د	ورقة بن نوفل	كفل النبي صلى الله عليه وسلم بعد وفاة أمه :
١٤	أ	الحنيفية	ب	اليهودية	ج	النصرانية	د	المجوسية	هي ملة أينا ابراهيم عليه السلام ملة التوحيد :

القطر القطبي

البدو

التخطيط

سلمان الفارسي

العسس

السرية

نعيم بن مسعود

ديوان الخراج

الحضارة

غار حراء

١	تنظيم و ترتيب الاعمال و المهام و وضع الزمن لتنفيذها
٢	أشار على النبي بحفر الخندق في غزوة الخندق
٣	الجند الذي يكلفهم الخليفة بمراقبة الامن ليلا
٤	هو الذي ينظم الواردات التي ترد بيت المال
٥	تفاعل المجموعات البشرية مع البيئة
٦	هم السكان الذين يسكنون الصحراء و البادية
٧	هو خط وهمي يصل بين القطبين الشمالي و الجنوبي
٨	اتخذ النبي في جبل النور ليتعبد فيه قبل البعثة
٩	حملات وجهها النبي ﷺ ولم يقدها بنفسه
١٠	أمره النبي ﷺ بزعة صفوف الاحزاب بالخدعة

□ انتهت الاسئلة □

تمنّياتي للجميع بالتوفيق و النجاح ،،،

مديرة المدرسة:

معلمة المادة:

نموذج اسئلة الاختبار النهائي لمادة الدراسات الاجتماعية للفصل الدراسي الأول ١٤٤٧ هـ			
الصف	الأول المتوسط	عدد الاوراق	٤
الدرجة النهائية	٤٠ درجة	عدد الأسئلة	٣

درجة السؤال الاول	درجة السؤال الثاني	درجة السؤال الثالث	مجموع درجات الطالبة

المصححة		المراجعة	
التوقيع		التوقيع	

اسم الطالبة	
-------------	--

تعليمات هامة

- ✓ التوكل على الله وتذكرني حديث نبينا محمد صلى الله عليه وسلم حيث قال (من غشنا فليس منا)
- ✓ اكتب اسمك الرباعي كاملا في الصفحة الأولى وفصلك (أ أو ب) فقط
- ✓ تأكد من عدد الأسئلة انها ثلاثة أسئلة
- ✓ الكتابة تكون بالقلم الأزرق الجاف
- ✓ الالتزام بالهدوء في قاعة الاختبار
- ✓ تأكد من جوابك على جميع الأسئلة
- ✓ الخروج من قاعة الاختبار بعد مضي نصف الوقت

السؤال الأول ضعي علامة (v) أمام العبارة الصحيحة و علامة (x) أمام العبارة الخاطئة فيما يلي ؟

١	اول رائد فضاء عربي مسلم هو صاحب السمو الملكي الامير سلطان بن سلمان	✓
٢	قامت حضارة بلاد الرافدين على نهر النيل	×
٣	أول بيت وضع للناس على وجه الارض هو (الكعبة المشرفة)	✓
٤	ارتبطت الفنون والعمارة في الحضارة الاسلامية بالأمور الدينية	✓
٥	اقرب الكواكب للشمس هو المريخ	×
٦	اهتم المسلمون بعلم التاريخ لارتباطه بغزوات النبي صلى الله عليه وسلم	✓
٧	ديوان الرسائل مهمته الفصل بين الخصومات بين الناس	×
٨	حسن بن ثابت رضي الله (شاعر النبي صلى الله عليه وسلم)	✓
٩	أستثمر النبي صلى الله عليه وسلم موسم الحج في الدعوة	✓
١٠	كل أبناء النبي صلى الله عليه وسلم من السيدة خديجة ماعدا ابراهيم	✓
١١	هاجر المسلمون الأوائل الى الحبشة .	✓
١٢	حدثت ثلاثة بيعات في العقبة	×
١٣	اتسمت الحالة السياسية في شبة الجزيرة العربية قبل الاسلام بالصراعات والحروب	✓
١٤	في شهر رمضان نزل جبريل عليه السلام على النبي محمد صلى الله عليه وسلم في غار حراء	✓
١٥	حجَّ النبي محمد صلى الله عليه وسلم مرتين	×
١٦	أمَّ عمر بن الخطاب رضي الله عنه المسلمين في الصلاة لما مرض النبي محمد صلى الله عليه وسلم	×

١	أ	الكون	ب	درب التبانة	ج	الارض	د	الشمس	هو كل ما يحيط بنا من نجوم ومجرات ومخلوقات حية :
٢	أ	الحضارة اليونانية	ب	الحضارة الصينية	ج	الحضارة الفرعونية	د	الحضارة الاسلامية	تعد أقدم الحضارات واطولها زمنا في تاريخ العالم :
٣	أ	٢٩%	ب	٤٥%	ج	٦٠%	د	٧١%	يغطي الماء من سطح الارض مانسبته :
٤	أ	مربعة	ب	دائرة	ج	كروي	د	مسطحة	شكل الارض :
٥	أ	يدفنوا موتاهم	ب	يسكنوها	ج	للعادة	د	لاشيء مما ذكر	بنى المصريون القدماء الاهرامات وذلك لـ :
٦	أ	١٠ كواكب	ب	١١ كوكب	ج	٨ كواكب	د	٦ كواكب	عدد كواكب مجموعتنا الشمسية :
٧	أ	قارة أفريقيا	ب	قارة استراليا	ج	قارة أوروبا	د	قارة آسيا	أكبر القارات مساحة :
٨	أ	دائرة السرطان	ب	دائرة (خط الاستواء)	ج	الدائرة القطبية	د	دائرة الجدي	الدائرة الرئيسية والكبرى من دوائر العرض ودرجتها صفر وتقسم الكرة الارضية الى قسمين شمالي وجنوبي هي :
٩	أ	منطقة ٢٢	ب	منطقة ٢٣	ج	منطقة ٢٤	د	منطقة ٢٥	قسمت دول العالم الى منطقة زمنية :
١٠	أ	اللغة الفرنسية	ب	اللغة الانجليزية	ج	اللغة العربية	د	اللغة الصينية	تعد اللغة هي أثري اللغات وأكملها في المعاني والألفاظ وهي لغة القرآن الكريم :
١١	أ	الصيام	ب	الحج	ج	بر الوالدين	د	الصلاة	آخر وصايا النبي محمد صلى الله عليه وسلم قبل وفاته :
١٢	أ	ابراهيم	ب	فاطمة	ج	القاسم	د	عبدالله	كل أبناء النبي محمد صلى الله عليه وسلم الذكور والاناث من السيدة خديجة رضي الله عنها عدا :
١٣	أ	حليمة السعدية	ب	جده عبدالمطلب	ج	عمه ابوطالب	د	ورقة بن نوفل	كفل النبي صلى الله عليه وسلم بعد وفاة أمه :
١٤	أ	الحنيفية	ب	اليهودية	ج	النصرانية	د	المجوسية	هي ملة أبينا ابراهيم عليه السلام ملة التوحيد :

السؤال الثالث مستعينةً بالشكل المجاور ضع مصطلحاً مناسباً أمام العبارات التالية ؟

القطر القطبي
البدو
التخطيط
سلمان الفارسي
العسس
السرية
نعيم ين مسعود
ديوان الخراج
الحضارة
غار حراء

١	التخطيط	تنظيم و ترتيب الاعمال و المهام و وضع الزمن لتنفيذها
٢	سلمان الفارسي	أشار على النبي بحفر الخندق في غزوة الخندق
٣	العسس	الجند الذي يكلفهم الخليفة بمراقبة الامن ليلا
٤	ديوان الخراج	هو الذي ينظم الواردات التي ترد بيت المال
٥	الحضارة	تفاعل المجموعات البشرية مع البيئة
٦	البدو	هم السكان الذين يسكنون الصحراء و البادية
٧	القطر القطبي	هو خط وهمي يصل بين القطبين الشمالي و الجنوبي
٨	غار حراء	اتخذ النبي في جبل النور ليتعبد فيه قبل البعثة
٩	السرية	حملات وجهها النبي ﷺ ولم يقدها بنفسه
١٠	نعيم ين مسعود	أمره النبي ﷺ بزعة صفوف الاحزاب بالخدعة

□ انتهت الاسئلة □

تمنّياتي للجميع بالتوفيق و النّجاح ،،،

..... مديرة المدرسة:

..... معلمة المادة:

التوقيع	اسم المصحح :	الدرجة	 وزارة التعليم Ministry of Education	المملكة العربية السعودية وزارة التعليم الإدارة العامة للتعليم مدرسة
التوقيع	اسم المراجع :	40	 رؤية 2030	

رقم الجلوس	الصف الأول متوسط	العام الدراسي 144 هـ	أسئلة اختبار الفصل الدراسي الأول
عدد الصفحات : 2	الزمن : ساعة ونصف	المادة : اجتماعيات	اسم الطالب :

استعن بالله ثم اجب على الاسئلة

السؤال الأول

10

ضع علامة (√) أمام العبارة الصحيحة وعلامة (X) أمام العبارة الخاطئة

1	من نتائج التخطيط التوتر والقلق .	()
2	شكل الأرض كامل الاستدارة .	()
3	أول رائد فضاء عربي مسلم هو الأمير سلطان بن سلمان .	()
4	اهتم المسلمون بعلم الفلك لارتباطه بالأمور الشرعية .	()
5	تم إنشاء الدواوين في عهد الخليفة عمر بن الخطاب .	()
6	تستمر دورة الأرض اليومية مدة 24 ساعة .	()
7	من فوائد خطوط الطول معرفة الزمن .	()
8	يساعد التخطيط على تنظيم الوقت .	()
9	الإنسان يشعر بحركة الأرض .	()
10	تبلغ نسبة الماء على سطح الأرض 29 % .	()

السؤال الثاني

8

أربط بين العمود [أ] بما يناسبه في العمود [ب] بوضع الرقم المناسب :

العمود [أ]	العمود [ب]
أقرب كواكب المجموعة الشمسية .	1- المشتري
نجم كروي غازي ملتهب يشع ضوء وحرارة .	2- أستراليا
أبعد كواكب المجموعة الشمسية .	3- آسيا
كل ما يحيط بنا من نجوم ومجرات ومخلوقات حية .	4- الكواكب
أكبر كواكب المجموعة الشمسية .	5- عطارد
أصغر قارات العالم .	6- الشمس
أكبر قارات العالم .	7- نبتون
أجسام كروية صلبة معتمة تستمد الضوء والحرارة من الشمس .	8- الكون

ضع دائرة على الحرف الذي يسبق الإجابة الصحيحة لكل مما يلي :

1- يبلغ عند دوائر العرض :

أ 360 دائرة ب 180 دائرة ج 150 دائرة

2- العلم الذي يبين معاني القرآن الكريم ويوضحها هو علم :

أ الحديث ب التفسير ج الفقه

3- من أبرز علماء المسلمين في علم الرياضيات :

أ محمد الخوارزمي ب جابر بن حيان ج أبو الريحان البيروني

4- يحدث فصل الصيف في شمال الكرة الأرضية عندما تتعامد أشعة الشمس على :

أ مدار السرطان ب مدار الجدي ج خط الاستواء

5- يبلغ عدد قارات العالم :

أ 7 قارات ب 5 قارات ج 8 قارات

6- قامت حضارة بلاد الرافدين في :

أ الصين ب العراق ج مصر

7- من إنجازات الحضارة الإسلامية في النظام السياسي :

أ القضاء ب الدواوين ج الوزارة

8- العلم الذي يدرس الوقائع وأوقاتها هو علم :

أ الجغرافيا ب الفلك ج التاريخ

9- للأرض :

أ حركة واحدة ب ثلاث حركات ج حركتان

10- ترتيب الأرض من حيث القرب من الشمس :

أ الأول ب الثاني ج الثالث

11- تتميز جميع كواكب المجموعة الشمسية بأنها :

أ شديدة الحرارة ب شديدة البرودة ج ذات شكل كروي

12- الخط الرئيسي من خطوط الطول هو خط :

أ الاستواء ب السرطان ج جرينتش

أ / اذكر الأسس التي قامت عليها الحضارة الإسلامية :

- 1-
2-
3-
4-

ب / اكمل الفراغات التالية :

- 1- قامت الحضارة الفرعونية على نهر في الفترة ما بين سنة ق.م إلى سنة ق.م .
2- ينتج عن حركة الأرض اليومية ثلاث نتائج هي 1- 2-
3-

نموذج اجابة

التوقيع	اسم المصحح :	رجة	Ministry of Education	المملكة العربية السعودية وزارة التعليم الإدارة العامة للتعليم مدرسة
التوقيع	اسم المراجع :	40	رؤية 2030	

رقم الجلوس	الصف الأول متوسط	العام الدراسي 144 هـ	أسئلة اختبار الفصل الدراسي الأول
عدد الصفحات : 2	الزمن : ساعة ونصف	المادة : اجتماعيات	اسم الطالب :

استعن بالله ثم اجب على الاسئلة

السؤال الأول

10

ضع علامة (√) أمام العبارة الصحيحة وعلامة (X) أمام العبارة الخاطئة

(X)	من نتائج التخطيط التوتر والقلق .	1
(X)	شكل الأرض كامل الاستدارة .	2
(√)	أول رائد فضاء عربي مسلم هو الأمير سلطان بن سلمان .	3
(√)	اهتم المسلمون بعلم الفلك لارتباطه بالأمور الشرعية .	4
(√)	تم إنشاء الدواوين في عهد الخليفة عمر بن الخطاب .	5
(√)	تستمر دورة الأرض اليومية مدة 24 ساعة .	6
(√)	من فوائد خطوط الطول معرفة الزمن .	7
(√)	يساعد التخطيط على تنظيم الوقت .	8
(X)	الإنسان يشعر بحركة الأرض .	9
(X)	تبلغ نسبة الماء على سطح الأرض 29 % .	10

السؤال الثاني

8

أربط بين العمود [أ] بما يناسبه في العمود [ب] بوضع الرقم المناسب :

العمود [ب]	العمود [أ]
1- المشتري	(٥) أقرب كواكب المجموعة الشمسية .
2- أستراليا	(٦) نجم كروي غازي ملتهب يشع ضوء وحرارة .
3- آسيا	(٧) أبعد كواكب المجموعة الشمسية .
4- الكواكب	(٨) كل ما يحيط بنا من نجوم ومجرات ومخلوقات حية .
5- عطارد	(١) أكبر كواكب المجموعة الشمسية .
6- الشمس	أصغر قارات العالم .
7- نبتون	أكبر قارات العالم .
8- الكون	أجسام كروية صلبة معتمة تستمد الضوء والحرارة من الشمس .

ضع دائرة على الحرف الذي يسبق الإجابة الصحيحة لكل مما يلي :

1- يبلغ عند دوائر العرض :

أ 360 دائرة ب 180 دائرة ج 150 دائرة

2- العلم الذي يبين معاني القرآن الكريم ويوضحها هو علم :

أ الحديث ب التفسير ج الفقه

3- من أبرز علماء المسلمين في علم الرياضيات :

أ محمد الخوارزمي ب جابر بن حيان ج أبو الريحان البيروني

4- يحدث فصل الصيف في شمال الكرة الأرضية عندما تتعامد أشعة الشمس على :

أ مدار السرطان ب مدار الجدي ج خط الاستواء

5- يبلغ عدد قارات العالم :

أ 7 قارات ب 5 قارات ج 8 قارات

6- قامت حضارة بلاد الرافدين في :

أ الصين ب العراق ج مصر

7- من إنجازات الحضارة الإسلامية في النظام السياسي :

أ القضاء ب الدواوين ج الوزارة

8- العلم الذي يدرس الوقائع وأوقاتها هو علم :

أ الجغرافيا ب الفلك ج التاريخ

9- للأرض :

أ حركة واحدة ب ثلاث حركات ج حركتان

10- ترتيب الأرض من حيث القرب من الشمس :

أ الأول ب الثاني ج الثالث

11- تتميز جميع كواكب المجموعة الشمسية بأنها :

أ شديدة الحرارة ب شديدة البرودة ج ذات شكل كروي

12- الخط الرئيسي من خطوط الطول هو خط :

أ الاستواء ب السرطان ج جرينتش

أ / اذكر الأسس التي قامت عليها الحضارة الإسلامية :

- 1-.....الأساس الديني.....
2-.....الأساس العلمي.....
3-.....الأساس اللغوي.....
4-.....الأساس الأخلاقي.....

ب / اكمل الفراغات التالية :

- 1- قامت الحضارة الفرعونية على نهر..... النيل..... في الفترة ما بين سنة..... ٣١٥٠..... ق.م إلى سنة..... ٣٠..... ق.م .
2- ينتج عن حركة الأرض اليومية ثلاث نتائج هي 1-..... الليل والنهار..... 2-..... تغير اتجاه الرياح.....
3-..... اختلاف التوقيت.....

الاختبار النهائي للفصل الدراسي الأول

الدرجة رقماً	الدرجة كتابة	المصحح	التوقيع	المراجع	التوقيع
40					
اسم الطالب:					
رقم الجلوس:					

السؤال الأول: ضع علامة (✓) أمام العبارة الصحيحة وعلامة (X) أمام العبارة الخاطئة:

10

1	الشمس من مكونات المجموعة الشمسية.
2	الأرض هي المكان الوحيد الذي توجد فيه الحياة بين سائر كواكب الكون.
3	شكل الأرض مثلاً.
4	تدور الأرض حول محورها في ثلاثون ساعة.
5	تعاقب الليل والنهار ينتج عن حركة الأرض حول محورها.
6	اعتمد المسلمون على قيم الإسلام في دراساتهم وإنشاء المعرفة.
7	الترجمة هي نقل العلوم من لغتها الأصلية إلى اللغة الفارسية.
8	يساعدنا التخطيط في المحافظة على الصحة من حيث انتظام النوم ومواعيد الوجبات.
9	لا يوجد ارتباط بين الفن الإسلامي والدين.
10	كان للعرب معرفة بالتجارة قبل الإسلام.

السؤال الثاني : اختر الإجابة الصحيحة:

10

1- تدور الأرض حول	أ - القمر	ب - الشمس	ج - الزهرة
2- هو الخط الوهمي المستقيم الواصل بين أبعد نقطتين على خط الاستواء	أ - القطر الاستوائي	ب - القطر القطبي	ج - القطر الشمالي
3- من المناطق الحرارية على سطح الأرض	أ - المنطقة الحارة	ب - المنطقتان المعتدلتان	ج - جميع ما سبق
4- يغطي 71% من مساحة سطح الأرضية	أ - الماء	ب - اليابسة	ج - الجبال
5- هو الأساس الأول للحضارة الإسلامية واعتمد على القرآن الكريم والسنة النبوية	أ - الأساس السياسي	ب - الأساس الديني	ج - الأساس العلمي
6- تعني المعاونة في تحمل أعباء الحكم	أ - بيت المال	ب - الامارة	ج - الوزارة
7- من أسس النجاح إدارة الوقت بطريقة	أ - منظمة	ب - عشوائية	ج - غير منظمة
8- هو الإعداد المنظم لتحديد المهام والاعمال المستقبلية ومواعيد القيام بها وكيفية إنجازها	أ - الإدارة	ب - التخطيط	ج - الاقتصاد

9- لماذا نحتاج التخطيط		
أ - بناء شخصيتنا الوطنية	ب - الاستمتاع بالوقت	ج - جميع ما سبق
10- اعتنى المسلمون ب..... لأنها المصدر الأول لغذاء الانسان		
أ - الزراعة	ب - الصناعة	ج - التعليم

السؤال الثالث : اختر من المجموعة (أ) ما يناسبها في المجموعة (ب) مستعينا " بالأرقام "

10

المجموعة (أ)	الأرقام	المجموعة (ب)
1	درب الثبابة	حضارة بلاد الرافدين
2	خطوط الطول	علم الحديث
3	الحضارة القديمة	المجموعة الشمسية
4	العسس	حصر الاعمال اليومية
5	العلوم الشرعية	التخطيط
6	النجاح والتفوق	خط جريثش
7	خطوات تنظيم الوقت	أكبر القارات
8	العلوم الطبيعية	حفظ الامن ليلا
9	آسيا	أكبر المحيطات
10	المحيط الهادي	علم الفيزياء

السؤال الرابع : اجب على الاسئلة الاتية:

10

1. عرف خطوط الطول؟

.....
.....
.....

2. كم عدد دوائر العرض؟

.....
.....

3. من الفصول المناخية الاربعة..... و

4. من خطوات تنظيم الوقت للمهام الدراسية..... و

5. عرف سطح الارض؟

.....
.....
.....

6. ماهي الحضارة؟

7. بم تميزت عمارة المساجد؟

8. لماذا اعتنى المسلمون ببناء الحصون والقلاع؟

الاختبار النهائي للفصل الدراسي الأول

الدرجة رقماً	الدرجة كتابة	المصحح	التوقيع	المراجع	التوقيع
40					
اسم الطالب:					
رقم الجلوس:					

نموذج الإجابة

السؤال الأول: ضع علامة (✓) أمام العبارة الصحيحة وعلامة (X) أمام العبارة الخاطئة:

10

1	الشمس من مكونات المجموعة الشمسية.	✓
2	الأرض هي المكان الوحيد الذي توجد فيه الحياة بين سائر كواكب الكون.	✓
3	شكل الأرض مثلاً.	X
4	تدور الأرض حول محورها في ثلاثون ساعة.	X
5	تعاقب الليل والنهار ينتج عن حركة الأرض حول محورها.	✓
6	اعتمد المسلمون على قيم الإسلام في دراساتهم وإنشاء المعرفة.	✓
7	الترجمة هي نقل العلوم من لغتها الأصلية إلى اللغة الفارسية.	X
8	يساعدنا التخطيط في المحافظة على الصحة من حيث انتظام النوم ومواعيد الوجبات.	✓
9	لا يوجد ارتباط بين الفن الإسلامي والدين.	X
10	كان للعرب معرفة بالتجارة قبل الإسلام.	✓

السؤال الثاني : اختر الإجابة الصحيحة:

10

1- تدور الأرض حول	أ - القمر	ب - الشمس	ج - الزهرة
2- هو الخط الوهمي المستقيم الواصل بين أبعد نقطتين على خط الاستواء	أ - القطر الاستوائي	ب - القطر القطبي	ج - القطر الشمالي
3- من المناطق الحرارية على سطح الأرض	أ - المنطقة الحارة	ب - المنطقتان المعتدلتان	ج - جميع ما سبق
4- يغطي 71% من مساحة سطح الأرضية	أ - الماء	ب - اليابسة	ج - الجبال
5- هو الأساس الأول للحضارة الإسلامية واعتمد على القرآن الكريم والسنة النبوية	أ - الأساس السياسي	ب - الأساس الديني	ج - الأساس العلمي
6- تعني المعاونة في تحمل أعباء الحكم	أ - بيت المال	ب - الإمارة	ج - الوزارة
7- من أسس النجاح إدارة الوقت بطريقة	أ - منظمة	ب - عشوائية	ج - غير منظمة
8- هو الإعداد المنظم لتحديد المهام والأعمال المستقبلية ومواعيد القيام بها وكيفية إنجازها	أ - الإدارة	ب - التخطيط	ج - الاقتصاد

9- لماذا نحتاج التخطيط		
أ - بناء شخصيتنا الوطنية	ب - الاستمتاع بالوقت	ج - جميع ما سبق
10- اعتنى المسلمون ب..... لأنها المصدر الأول لغذاء الانسان		
أ - الزراعة	ب - الصناعة	ج - التعليم

السؤال الثالث : اختر من المجموعة (أ) ما يناسبها في المجموعة (ب) مستعينا " بالأرقام "

10

المجموعة (أ)	الأرقام	المجموعة (ب)
1 درب الثبابة	3	حضارة بلاد الرافدين
2 خطوط الطول	5	علم الحديث
3 الحضارة القديمة	1	المجموعة الشمسية
4 العسس	7	حصر الاعمال اليومية
5 العلوم الشرعية	6	التخطيط
6 النجاح والتفوق	2	خط جريثش
7 خطوات تنظيم الوقت	9	أكبر القارات
8 العلوم الطبيعية	4	حفظ الامن ليلا
9 آسيا	10	أكبر المحيطات
10 المحيط الهادي	8	علم الفيزياء

السؤال الرابع : اجب على الاسئلة الاتية:

10

1. عرف خطوط الطول؟
2. خطوط وهمية طولية ترسم على شكل الكرة الارضية من القطب الشمالي الى القطب الجنوبي.
3. كم عدد دوائر العرض؟
4. 180 دائرة
5. من الفصول المناخية الاربعة **الشتاء والصيف**
6. من خطوات تنظيم الوقت للمهام الدراسية **اعداد قائمة الاعمال و كتابة جميع الاعمال في قائمة واحدة**
7. عرف سطح الارض؟
8. هو كل ما على وجه الكرة الارضية من مرتفعات ومنخفضات.
9. ماهي الحضارة؟
10. هي تفاعل المجموعات البشرية مع البيئات المحيطة بهم.
11. بم تميزت عمارة المساجد؟
12. تميزت في اول امرها ببساطة البناء ثم تطورت واصبحت مثلاً رائعاً في فن العمارة والزخرفة الاسلامية.
13. لماذا اعتنى المسلمون ببناء الحصون والقلاع؟
14. لحماية حدود الدولة



أسئلة اختبار الفصل الدراسي الأول (الدور الأول) لعام ١٤٤٤ هـ

رقم الجلوس:

الصف:

اسم الطالب:

٤٠

١٠

أولاً: أسئلة الصواب والخطأ من (١) إلى (١٠):

ظل (أ) للعبارة الصحيحة و(ب) للعبارة الخاطئة فيما يلي:

١ س	شبه الجزيرة العربية مهد الحضارات ومنها انطلقت الهجرات.	()
٢ س	استفاد المسلمون من علوم الحضارات السابقة في مختلف الجوانب.	()
٣ س	ظهرت العناية ببناء القصور في عصر الخلفاء الراشدين.	()
٤ س	لم تكن للعرب معرفة بالتجارة قبل الإسلام.	()
٥ س	وزارة التفويض أن ينفذ الوزير أوامر الخليفة فقط.	()
٦ س	تنتمي المجموعة الشمسية لمجرة درب التبانة.	()
٧ س	كواكب المجموعة الشمسية جميعها ذات شكل كروي.	()
٨ س	أبعاد الأرض متساوية.	()
٩ س	خطوط الطول عبارة عن أنصاف دوائر متساوية في الطول.	()
١٠ س	تتركز اليابسة في نصف الكرة الأرضية الجنوبي.	()

٢٢

ثانياً: أسئلة الاختيار من متعدد من (١١) إلى (٣٢):

اختر الإجابة الصحيحة من بين البدائل فيما يلي ثم ظلها في ورقة الإجابة:

١١ س	تفاعل المجموعات البشرية مع البيئة المحيطة بها:	١٤ س	أنشئت الدواوين في عهد الخليفة:
(أ)	الحضارة	(أ)	أبو بكر الصديق ؓ
(ب)	الوزارة	(ب)	عمر بن الخطاب ؓ
(ج)	القضاء	(ج)	عثمان بن عفان ؓ
(د)	التاريخ	(د)	علي بن أبي طالب ؓ
١٢ س	سقطت إمبراطورية (الكاتانيين) على يد:	١٥ س	أول من أدخل نظام الشرطة في الإسلام:
(أ)	الفرس	(أ)	عمرو بن العاص ؓ
(ب)	الرومان	(ب)	عمر بن الخطاب ؓ
(ج)	الصينيون	(ج)	معاوية بن أبي سفيان ؓ
(د)	الأكاديون	(د)	أبو بكر الصديق ؓ
١٣ س	عرفت الكتابة (الهيروغليفية) في الحضارة:	١٦ س	العلم الذي يهتم ببيان معاني آيات القرآن الكريم هو علم:
(أ)	الصينية	(أ)	الفقه
(ب)	الفرعونية	(ب)	التفسير
(ج)	الإسلامية	(ج)	الحديث
(د)	الرومانية	(د)	التاريخ

تابع الأسئلة

(١)

س١٧	من أشهر علماء المسلمين في علم الفيزياء:	س٢٣	أكبر كواكب المجموعة الشمسية:
(أ)	أبو الريحان البيروني	(أ)	زحل
(ب)	جابر بن حيان	(ب)	المريخ
(ج)	محمد الخوارزمي	(ج)	المشتري
(د)	سيبويه	(د)	الأرض
س١٨	اعتنى المسلمون ببناء القلاع والحصون:	س٢٤	يبلغ عدد دوائر العرض:
(أ)	لتكون عواصم للنول الإسلامية	(أ)	١٢٠ دائرة
(ب)	لأغراض اقتصادية	(ب)	١٥٠ دائرة
(ج)	لأغراض دينية	(ج)	١٨٠ دائرة
(د)	لحماية حدود النولة	(د)	٣٦٠ دائرة
س١٩	العناية بتوفير وسائل الري ببناء السدود وإقامة الجسور من مظاهر العناية بـ:	س٢٥	خط الطول الرئيسي يسمى:
(أ)	الزراعة	(أ)	جرينتش
(ب)	الصناعة	(ب)	الاستواء
(ج)	التجارة	(ج)	الجندي
(د)	السياحة	(د)	السرطان
س٢٠	تعد صناعة الأسلحة من الصناعات:	س٢٦	يبلغ عدد المناطق الزمنية على سطح الأرض:
(أ)	المعدنية	(أ)	٢٨ منطقة
(ب)	الخزفية	(ب)	٢٠ منطقة
(ج)	الكيميائية	(ج)	٢٢ منطقة
(د)	الزجاجية	(د)	٢٤ منطقة
س٢١	كل ما يحيط بنا من نجوم ومجرات ومخلوقات حية:	س٢٧	درجة مدار السرطان:
(أ)	الكون	(أ)	٢٣,٥° جنوباً
(ب)	الثوب	(ب)	٢٣,٥° شمالاً
(ج)	النيازك	(ج)	٦٦,٥° شمالاً
(د)	الكواكب	(د)	٤٠° جنوباً
س٢٢	يبلغ عدد كواكب المجموعة الشمسية:	س٢٨	لا يشعر سكان الأرض بحركتها بسبب:
(أ)	خمس	(أ)	كبر حجمها
(ب)	سبعة	(ب)	ثقلها
(ج)	ثمانية	(ج)	عدم انتظام حركتها
(د)	تسعة	(د)	استدارتها

تابع الأسئلة

س ٢٩	سبب تعاقب الليل والنهار:	س ٣١	أكبر قارات العالم مساحة:
(أ)	دوران الأرض حول الشمس	(أ)	آسيا
(ب)	ميل محور الأرض	(ب)	أستراليا
(ج)	دوران الأرض حول نفسها	(ج)	أوروبا
(د)	ثبات ميل محور الأرض	(د)	إفريقيا
س ٣٠	يحدث الصيف في شمال الكرة الأرضية عندما تتعامد أشعة الشمس على:	س ٣٢	يغطي الماء سطح الأرض بنسبة:
(أ)	مدار الجدي	(أ)	٧١ %
(ب)	خط الاستواء	(ب)	٧٣ %
(ج)	الدائرة القطبية الشمالية	(ج)	٢٩ %
(د)	مدار السرطان	(د)	٦٣ %

ثالثاً: الأسئلة المقالية:

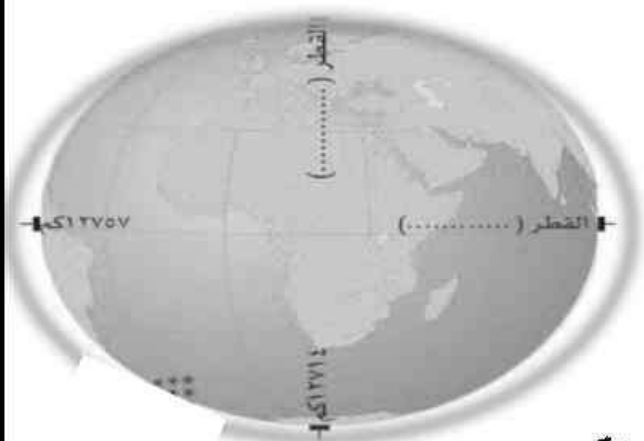


س ٣٣ / اذكر أبرز عاملين لقيام الحضارات.

- ١-
- ٢-

س ٣٤ / ما الأسس التي قامت عليها الحضارة الإسلامية؟

- ١-
- ٢-
- ٣-
- ٤-



س ٣٥ / دون على الشكل ما يأتي:

- أ- محور الأرض القطبي
- ب- محور الأرض الاستوائي.

انتهت الأسئلة

معتم المادة :

يوسف خضر الرحيلي

أسئلة اختبار الفصل الدراسي الأول (الدور الأول) لعام 144هـ

رقم الجلوس:

نموذج الإجابة

اسم

40

40

10

10

أولاً: أسئلة الصواب والخطأ من (1) إلى (10):

ظل (أ) للعبارة الصحيحة و (ب) للعبارة الخاطئة فيما يلي:

س1	شبه الجزيرة العربية مهد الحضارات ومنها انطلقت الهجرات.	(✓)
س2	استفاد المسلمون من علوم الحضارات السابقة في مختلف الجوانب.	(✓)
س3	ظهرت العناية ببناء القصور في عصر الخلفاء الراشدين.	(✗)
س4	لم تكن للعرب معرفة بالتجارة قبل الإسلام.	(✗)
س5	وزارة التفويض أن يفد الوزير أوامر الخليفة فقط.	(✗)
س6	تنتمي المجموعة الشمسية لمجرة درب النانة.	(✓)
س7	كواكب المجموعة الشمسية جميعها ذات شكل كروي.	(✓)
س8	أبعاد الأرض متساوية.	(✗)
س9	خطوط الطول عبارة عن أنصاف دوائر متساوية في الطول.	(✓)
س10	تتركز اليابسة في نصف الكرة الأرضية الجنوبي.	(✗)

22

٢٢

ثانياً: أسئلة الاختيار من متعدد من (11) إلى (32):

اختر الإجابة الصحيحة من بين البدائل فيما يلي ثم ظلها في ورقة الإجابة:

س11	تفاعل المجموعات البشرية مع البيئة المحيطة بها:	س14	أنشئت الدواوين في عهد الخليفة:
(أ)	الحضارة ①	(أ)	أبو بكر الصديق ؓ
(ب)	الوزارة	(ب)	عمر بن الخطاب ؓ ①
(ج)	القضاء	(ج)	عثمان بن عفان ؓ
(د)	التاريخ	(د)	علي بن أبي طالب ؓ
س12	سقطت إمبراطورية (الكلدانيين) على يد:	س15	أول من أدخل نظام الشرطة في الإسلام:
(أ)	الفرس ①	(أ)	عمر بن العاص ؓ ①
(ب)	الرومان	(ب)	عمر بن الخطاب ؓ
(ج)	الصينيين	(ج)	معاوية بن أبي سفيان ؓ
(د)	الأكاديون	(د)	أبو بكر الصديق ؓ
س13	عرفت الكتابة (الهيروغليفية) في الحضارة:	س16	العلم الذي يهتم ببيان معاني آيات القرآن الكريم هو علم:
(أ)	الصينية	(أ)	الفقه
(ب)	الفرعونية ①	(ب)	التفسير ①
(ج)	الإسلامية	(ج)	الحديث
(د)	الرومانية	(د)	التاريخ

تابع الأسئلة

(1)

17س	من أشهر علماء المسلمين في علم الفيزياء:	23س	أكبر كواكب المجموعة الشمسية:
(أ)	أبو الريحان البيروني 1	(أ)	زحل
(ب)	جابر بن حيان	(ب)	المريخ
(ج)	محمد الخوارزمي	(ج)	المشتري 1
(د)	سيبويه	(د)	الأرض
18س	اعتنى المسلمون ببناء القلاع والحصون:	24س	يبلغ عدد دوائر العرض:
(أ)	لتكون عواصم للنول الإسلامية	(أ)	120 دائرة
(ب)	لأغراض اقتصادية	(ب)	150 دائرة
(ج)	لأغراض دينية	(ج)	180 دائرة 1
(د)	لحماية حدود الدولة 1	(د)	360 دائرة
19س	العناية بتوفير وسائل الري ببناء السدود وإقامة الجسور من مظاهر العناية بـ:	25س	خط الطول الرئيسي يسمى:
(أ)	الزراعة 1	(أ)	جرينتش 1
(ب)	الصناعة	(ب)	الاستواء
(ج)	التجارة	(ج)	الجدي
(د)	السياحة	(د)	المسرطان
20س	تعد صناعة الأسنحة من الصناعات:	26س	يبلغ عدد المناطق الزمنية على سطح الأرض:
(أ)	المعدنية 1	(أ)	28 منطقة
(ب)	الخزفية	(ب)	20 منطقة
(ج)	الكيميائية	(ج)	22 منطقة
(د)	الزجاجية	(د)	24 منطقة 1
21س	كل ما يحيط بنا من نجوم ومجرات ومخلوقات حية:	27س	درجة مدار السرطان:
(أ)	الكون 1	(أ)	23,5° جنوباً
(ب)	الشهب	(ب)	23,5° شمالاً 1
(ج)	النيازك	(ج)	66,5° شمالاً
(د)	الكواكب	(د)	40° جنوباً
22س	يبلغ عدد كواكب المجموعة الشمسية:	28س	لا يشعر سكان الأرض بحركتها بسبب:
(أ)	خمسة	(أ)	كبر حجمها 1
(ب)	سبعة	(ب)	ثقلها
(ج)	ثمانية 1	(ج)	عدم انتظام حركتها
(د)	تسعة	(د)	استدارتها

س29	سبب تعاقب الليل والنهار:	س31	أكبر قارات العالم مساحة:
(أ)	دوران الأرض حول الشمس	(أ)	آسيا ①
(ب)	ميل محور الأرض	(ب)	أستراليا
(ج)	دوران الأرض حول نفسها ①	(ج)	أوروبا
(د)	ثبات ميل محور الأرض	(د)	إفريقيا
س30	يحدث الصيف في شمال الكرة الأرضية عندما تتعامد أشعة الشمس على:	س32	يغطي الماء سطح الأرض بنسبة:
(أ)	مدار الجدي	(أ)	71 % ①
(ب)	خط الاستواء	(ب)	73 %
(ج)	الدائرة القطبية الشمالية	(ج)	29 %
(د)	مدار السرطان ①	(د)	63 %

ثالثاً: الأسئلة المقالية:

8
٨

2
2

س33/ اذكر أبرز عاملين لقيام الحضارات.

1- الموقع والتضاريس

2- المناخ

س34/ ما الأسس التي قامت عليها الحضارة الإسلامية؟

1- الأساس الديني

2- الأساس اللغوي

3- الأساس العلمي

4- الأساس الأخلاقي

4
4

س35/ دون على الشكل ما يأتي:

أ- محور الأرض القطبي

ب- محور الأرض الاستوائي.

2
2



انتهت الأسئلة

معتم المادة :

(3)

يوسف خضر الرحيلي



أسئلة اختبار الفصل الدراسي الأول (الدور الأول) لعام ١٤٤٤ هـ

رقم الجلوس:

الصف:

اسم الطالب:

٤٠

١٦

أولاً: أسئلة الصواب والخطأ من (١) إلى (١٢):

ظلل (أ) للعبارة الصحيحة و(ب) للعبارة الخاطئة فيما يلي:

١ س	شبه الجزيرة العربية مهد الحضارات ومنها انطلقت الهجرات.	()
٢ س	عرفت الكتابة (الهيروغليفية) في الحضارة الصينية.	()
٣ س	يعتد الأساس الغوي هو الأساس الأول للحضارة الإسلامية.	()
٤ س	استفاد المسلمون من علوم الحضارات السابقة في مختلف الجوانب.	()
٥ س	اعتنى المسلمون بعلم التاريخ لارتباطه بالعلوم الشرعية.	()
٦ س	ارتبط الفن الإسلامي بالدين ارتباطاً وثيقاً.	()
٧ س	لم تكن للعرب معرفة بالتجارة قبل الإسلام.	()
٨ س	الكوكب جسم كروي صلب يشع ضوءاً.	()
٩ س	شكل الأرض كامل الاستدارة.	()
١٠ س	حركة الأرض حول محورها تسمى بالحركة اليومية.	()
١١ س	دوائر العرض عبارة عن دوائر كاملة متوازية وغير متساوية في الطول.	()
١٢ س	تتركز اليابسة في نصف الكرة الأرضية الشمالي.	()

٢٨

ثانياً: أسئلة الاختيار من متعدد من (١٣) إلى (٤٠):

اختر الإجابة الصحيحة من بين البدائل فيما يلي ثم ظللها في ورقة الإجابة:

١٣ س	أول الشعوب التي سكنت جنوب العراق:	١٥ س	انتهى العصر الفرعوني على يد:
(أ)	الأكاديون	(أ)	السومريون
(ب)	الكلدانيون	(ب)	الفرس
(ج)	الاشوريون	(ج)	الرومان
(د)	السومريون	(د)	العرب
١٤ س	قامت حضارة بلاد الرافدين على ضفاف نهري:	١٦ س	من النظم السياسية في الإسلام:
(أ)	دجلة والفرات	(أ)	الوزارة
(ب)	النيل الأبيض والأزرق	(ب)	الإمارة
(ج)	الأصفر ومنطقة اليانغتسي	(ج)	الشرطة
(د)	سيحون وجيحون	(د)	القضاء

تابع الأسئلة

س ١٧	تعني المعاونة في تحمل أعباء الحكم:	س ٢٣	العناية بتوفير وسائل الري ببناء السدود وإقامة الجسور من مظاهر العناية بـ :
(أ)	الخلافة	(أ)	الزراعة
(ب)	الوزارة	(ب)	الصناعة
(ج)	البيعة	(ج)	التجارة
(د)	الدواوين	(د)	السياحة
س ١٨	تحول الجيش الإسلامي إلى جيش نظامي في عهد الخليفة:	س ٢٤	اعتنى المسلمون بـ لأنها المصدر الأول لغذاء الإنسان:
(أ)	عثمان بن عفان ؓ	(أ)	المعادن
(ب)	علي بن أبي طالب ؓ	(ب)	التجارة
(ج)	عمر بن الخطاب ؓ	(ج)	الصناعة
(د)	أبو بكر الصديق ؓ	(د)	الزراعة
س ١٩	من منجزات المسلمين في علم الرياضيات:	س ٢٥	تعد صناعة الأدوية من الصناعات:
(أ)	تنقية المعادن	(أ)	المعدنية
(ب)	دراسة الضوء والصوت	(ب)	الغذائية
(ج)	اختراع الصفر	(ج)	الكيميائية
(د)	اكتشاف الكثافة	(د)	الزجاجية
س ٢٠	نقل العلوم من لغتها الأصلية إلى اللغة العربية:	س ٢٦	تنتمي مجموعتنا الشمسية لمجرة:
(أ)	الحضارة	(أ)	زهرة الشمس
(ب)	الفنون	(ب)	درب التبانة
(ج)	الترجمة	(ج)	المذنب
(د)	العمارة	(د)	العين
س ٢١	من أشهر المساجد التي بناها المسلمون في دمشق:	س ٢٧	يبلغ عدد كواكب المجموعة الشمسية:
(أ)	مسجد عقبة بن نافع	(أ)	خمسة
(ب)	المسجد الأموي	(ب)	سبعة
(ج)	المسجد الأقصى	(ج)	ثمانية
(د)	مسجد القبايتين	(د)	تسعة
س ٢٢	اعتنى المسلمون ببناء القلاع والحصون:	س ٢٨	أصغر كواكب المجموعة الشمسية:
(أ)	لتكون عواصم للدول الإسلامية	(أ)	زحل
(ب)	لأغراض اقتصادية	(ب)	عطارد
(ج)	لأغراض دينية	(ج)	المشتري
(د)	لحماية حدود الدولة	(د)	الأرض

س ٢٩	ترتيب الأرض من حيث القرب من الشمس:	س ٣٥	لا يشعر سكان الأرض بحركتها بسبب:
(أ)	الأول	(أ)	كبر حجمها
(ب)	الثاني	(ب)	ثقلها
(ج)	الثالث	(ج)	عدم انتظام حركتها
(د)	الرابع	(د)	استدارتها
س ٣٠	أول رائد فضاء عربي مسلم صاحب السمو الملكي الأمير بن سلمان بن عبد العزيز:	س ٣٦	سبب تعاقب الليل والنهار:
(أ)	تركي	(أ)	دوران الأرض حول الشمس
(ب)	بندر	(ب)	ميل محور الأرض
(ج)	سلطان	(ج)	دوران الأرض حول نفسها
(د)	أحمد	(د)	ثبات ميل محور الأرض
س ٣١	الخط الوهمي المستقيم الواصل بين القطبين والمار بمركز الأرض يعرف بـ :	س ٣٧	يحدث الشتاء في شمال الكرة الأرضية عندما تتعامد أشعة الشمس على:
(أ)	القطر القطبي	(أ)	مدار الجدي
(ب)	خط الاستواء	(ب)	خط الاستواء
(ج)	خط جرينتش	(ج)	الدائرة القطبية الشمالية
(د)	القطر الاستوائي	(د)	مدار السرطان
س ٣٢	عدد خطوط الطول:	س ٣٨	أصغر قارات العالم مساحة:
(أ)	٩٠ خطاً	(أ)	آسيا
(ب)	١٨٠ خطاً	(ب)	أستراليا
(ج)	٢٧٠ خطاً	(ج)	أوروبا
(د)	٣٦٠ خطاً	(د)	إفريقيا
س ٣٣	تفيد خطوط الطول في تحديد:	س ٣٩	يغطي الماء سطح الأرض بنسبة:
(أ)	الأقاليم المناخية	(أ)	٧١ %
(ب)	خط الاستواء	(ب)	٧٣ %
(ج)	الزمن	(ج)	٢٩ %
(د)	الارتفاع والانخفاض	(د)	٦٣ %
س ٣٤	درجة مدار الجدي:	س ٤٠	أكبر المحيطات مساحة:
(أ)	٢٣,٥° جنوباً	(أ)	المحيط الهندي
(ب)	٢٣,٥° شمالاً	(ب)	المحيط الهادئ
(ج)	٦٦,٥° شمالاً	(ج)	المحيط الأطلسي
(د)	٤٠° جنوباً	(د)	المحيط الجنوبي

انتهت الأسئلة

معلم المادة :

يوسف خضر الرحيلي

أسئلة اختبار الفصل الدراسي الأول (الدور الأول) لعام 144هـ

رقم الجلوس:

الصف:

اسم الطالب:

نموذج الإجابة

40

40

12

12

أولاً: أسئلة الصواب والخطأ من (1) إلى (12):

ظل (أ) للعبارة الصحيحة و (ب) للعبارة الخاطئة فيما يلي:

س1	شبه الجزيرة العربية مهد الحضارات ومنها انطلقت الهجرات.	(✓)
س2	عرفت الكتابة (الهيريوغرافية) في الحضارة الصينية.	(×)
س3	يعد الأساس اللغوي هو الأساس الأول للحضارة الإسلامية.	(×)
س4	استفاد المسلمون من علوم الحضارات السابقة في مختلف الجوانب.	(✓)
س5	اعتنى المسلمون بعلم التاريخ لارتباطه بالعلوم الشرعية.	(×)
س6	ارتبط الفن الإسلامي بالدين ارتباطاً وثيقاً.	(✓)
س7	لم تكن للعرب معرفة بالتجارة قبل الإسلام.	(×)
س8	الكوكب جسم كروي صلب يشع ضوءاً.	(×)
س9	شكل الأرض كامل الاستدارة.	(×)
س10	حركة الأرض حول محورها تسمى بالحركة اليومية.	(✓)
س11	دوائر العرض عبارة عن دوائر كاملة متوازية وغير متساوية في الطول.	(✓)
س12	تتركز اليابسة في نصف الكرة الأرضية الشمالي.	(✓)

28

28

ثانياً: أسئلة الاختيار من متعدد من (13) إلى (40):

اختر الإجابة الصحيحة من بين البدائل فيما يلي ثم ظلها في ورقة الإجابة:

س13	أول الشعوب التي سكنت جنوب العراق:	س15	انتهى العصر الفرعوني على يد:
(أ)	الأكاديون	(أ)	السومريون
(ب)	الكلدانيون	(ب)	الفرس
(ج)	الآشوريون	(ج)	الرومان 1
(د)	السومريون 1	(د)	العرب
س14	قامت حضارة بلاد الرافدين على ضفاف نهري:	س16	من النظم السياسية في الإسلام:
(أ)	دجلة والفرات 1	(أ)	الوزارة 1
(ب)	النيل الأبيض والأزرق	(ب)	الإمارة
(ج)	الأصفر ومنطقة اليانغتسي	(ج)	الشرطة
(د)	سيحون وجيحون	(د)	القضاء

تابع الأسئلة

س17	تعني المعاونة في تحمل أعباء الحكم:	س23	العناية بتوفير وسائل الري ببناء السدود وإقامة الجسور من مظاهر العناية بـ:
(أ)	الخلافة	(أ)	الزراعة 1
(ب)	الوزارة 1	(ب)	الصناعة
(ج)	البيعة	(ج)	التجارة
(د)	النواوين	(د)	السياحة
س18	تحول الجيش الإسلامي إلى جيش نظامي في عهد الخليفة:	س24	اعتنى المسلمون بـ لأنها المصدر الأول لغذاء الإنسان:
(أ)	عثمان بن عفان	(أ)	المعادن
(ب)	علي بن أبي طالب	(ب)	التجارة
(ج)	عمر بن الخطاب 1	(ج)	الصناعة
(د)	أبو بكر الصديق	(د)	الزراعة 1
س19	من منجزات المسلمين في علم الرياضيات:	س25	تعد صناعة الأدوية من الصناعات:
(أ)	تنقية المعادن	(أ)	المعدنية
(ب)	دراسة الضوء والصوت	(ب)	الغذائية
(ج)	اختراع الصفر 1	(ج)	الكيميائية 1
(د)	اكتشاف الكثافة	(د)	الزجاجية
س20	نقل العلوم من لغتها الأصلية إلى اللغة العربية:	س26	تنتمي مجموعة النجوم الشمسية لمجرة:
(أ)	الحضارة	(أ)	زهرة الشمس
(ب)	الفنون	(ب)	درب التبانة 1
(ج)	الترجمة 1	(ج)	المنزب
(د)	العمارة	(د)	العين
س21	من أشهر المساجد التي بناها المسلمون في دمشق:	س27	يبلغ عدد كواكب المجموعة الشمسية:
(أ)	مسجد عقبة بن نافع	(أ)	خمسة
(ب)	المسجد الأموي 1	(ب)	سبعة
(ج)	المسجد الأقصى	(ج)	ثمانية 1
(د)	مسجد القبايين	(د)	تسعة
س22	اعتنى المسلمون ببناء القلاع والحصون:	س28	أصغر كواكب المجموعة الشمسية:
(أ)	لتكون عواصم للثول الإسلامية	(أ)	زحل
(ب)	لأغراض اقتصادية	(ب)	عطارد 1
(ج)	لأغراض دينية	(ج)	المشتري
(د)	لحماية حدود الدولة 1	(د)	الأرض

تابع الأسئلة

س29	ترتيب الأرض من حيث القرب من الشمس:	س35	لا يشعر سكان الأرض بحركتها بسبب:
(أ)	الأول	(أ)	كبر حجمها 1
(ب)	الثاني	(ب)	ثقلها
(ج)	الثالث 1	(ج)	عدم انتظام حركتها
(د)	الرابع	(د)	استدارتها
س30	أول رائد فضاء عربي مسلم صاحب السمو الملكي الأمير بن سلمان بن عبد العزيز:	س36	سبب تعاقب الليل والنهار:
(أ)	تركي	(أ)	دوران الأرض حول الشمس
(ب)	بنر	(ب)	ميل محور الأرض
(ج)	سلطان 1	(ج)	دوران الأرض حول نفسها 1
(د)	أحمد	(د)	ثبات ميل محور الأرض
س31	الخط الوهمي المستقيم الواصل بين القطبين والمار بمرکز الأرض يعرف بـ:	س37	يحدث الشتاء في شمال الكرة الأرضية عندما تتعامد أشعة الشمس على:
(أ)	القطر القطبي 1	(أ)	مدار الجدي 1
(ب)	خط الاستواء	(ب)	خط الاستواء
(ج)	خط جرينتش	(ج)	الدائرة القطبية الشمالية
(د)	القطر الاستوائي	(د)	مدار السرطان
س32	عدد خطوط الطول:	س38	أصغر قارات العالم مساحة:
(أ)	90 خطاً	(أ)	آسيا
(ب)	180 خطاً	(ب)	أستراليا 1
(ج)	270 خطاً	(ج)	أوروبا
(د)	360 خطاً 1	(د)	إفريقيا
س33	تفيد خطوط الطول في تحديد:	س39	يغطي الماء سطح الأرض بنسبة:
(أ)	الأقاليم المناخية	(أ)	71 % 1
(ب)	خط الاستواء	(ب)	73 %
(ج)	الزمن 1	(ج)	29 %
(د)	الارتفاع والانخفاض	(د)	63 %
س34	درجة مدار الجدي:	س40	أكبر المحيطات مساحة:
(أ)	23,5° جنوباً 1	(أ)	المحيط الهندي
(ب)	23.5° شمالاً	(ب)	المحيط الهادئ 1
(ج)	66.5° شمالاً	(ج)	المحيط الأطلسي
(د)	40° جنوباً	(د)	المحيط الجنوبي

انتهت الأسئلة

معلم المادة :

يوسف خضر الرحيلي

العام الدراسي	144 هـ	المادة	الدراسات الاجتماعية
الفصل الدراسي	الأول	الزمن	ساعتان
النور	الأول	الصف	الأول متوسط

اسم الطالب	رقم الجلوس
------------	------------

بيان تقدير الدرجات					
رقم السؤال	الدرجة المستحقة		المصحح		المراجع
	رقماً	كتابة	الاسم	التوقيع	الاسم
1					
2					
3					
4					
المجموع			جمعه:	راجعه:	

(12 درجة)

السؤال الأول :

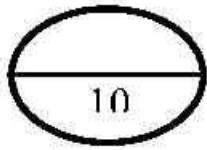
22

أ) اختر الرقم المناسب من المجموعة الأولى ثم ضعه أمام ما يناسب من المجموعة الثانية ؟

المجموعة الأولى		المجموعة الثانية
1	أكبر قارات العالم	نبيون
2	أكبر محيطات العالم	الزراعة
3	أقرب كوكب للشمس	الهادي
4	أبعد كوكب عن الشمس	آسيا
5	المصدر الأول لغذاء الانسان	الوزارة
6	تعني المعاونة في تحمل أعباء الحكم	المشترى

ب- ضع علامة (صح) أمام الإجابة الصحيحة وعلامة (خطأ) أمام الإجابة الخاطئة : (10 درجات)

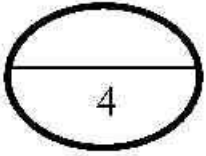
- 1- الحضارة هي تفاعل المجموعات البشرية مع البيئات المحيطة بهم { }
- 2- الموقع والتضاريس من العوامل التي تسهم في قيام الحصارات { }
- 3- نشأت حضارة بلاد الرافدين في سوريا { }
- 4- استمرت حضارة مصر القديمة 3000 سنة { }
- 5- غزا الرومان مصر عام 30 ق.م { }
- 6- أطول الحضارات زمنًا هي الحضارة الفرعونية { }
- 7- من أسس الحضارة الإسلامية الأساس السياسي و الأساس اللغوي { }
- 8- الامارة هي تعيين العمال والولاة على أجزاء من البلاد الإسلامية { }
- 9- من العلماء المسلمين في علم الفيزياء جابر بن حيان { }
- 10- من أشهر علماء النحو سيبويه { }



السؤال الثاني:

اختر الإجابة الصحيحة بوضع دائرة على الحرف المناسب في الخيارات ؟

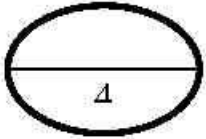
1/ هم الجند الذين يعتمد عليهم أو الزوالي في استتباب الامن وحفظ النظام والقبض على الجناة :				
أ	ب	ج	د	القضاة
2 / هم رجال يتولون حفظ الأمن ليلاً:				
أ	ب	ج	د	القضاة
3 / من العلوم الطبيعية في الحضارة الإسلامية:				
أ	ب	ج	د	الرياضيات
4 / أول من رسم الخرائط وأصبحت أساسًا لخرائط العالم هو:				
أ	ب	ج	د	ابو الريحان البيروني
5 / من الاجسام الكونية :				
أ	ب	ج	د	المذنبات



السؤال الثالث :

أكمل الفراغات التالية :

1. الكواكب القريبة من الشمس شديدة
2. الكواكب البعيدة عن الشمس شديدة
3. أول رائد فضاء عربي مسلم هو
4. الخط الرئيسي لخطوط الطول هو



السؤال الرابع :

أجب عما يلي :

عند أربعة من أهم دوائر العرض ؟

- 1-
- 2-
- 3-
- 4-

أسئلة اختبار مادة الاجتماعيات للصف الأول المتوسط للفصل الدراسي الأول لعام 1445

السؤال الأول :

اختاري الإجابة الصحيحة مما يأتي :

1-دوائر العرض تفيد في تحديد :

أ- الزمن ب- المناطق الحرارية ج- خط جرينتش د- المناطق الإدارية

2- عدد خطوط الطول

أ- 360 خطا ب- 180 خطا ج- 270 خطا د- 450 خطا

3- مدار الجدي

أ- 23,5 درجة جنوبا ب- 23,5 درجة شمالا ج- 66,5 درجة جنوبا د- 66,5 درجة شمالا

4- عدد كواكب المجموعة الشمسية

أ- سبعة ب- ثمانية ج- ستة عشر د- تسعة

5- ترتيب الأرض من حيث القرب من الشمس

أ- الأول ب- الثاني ج- الثالث د- الرابع

6- تعد صناعة الادوية من الصناعات

أ- الغذائية ب- الكيميائية ج- الزجاجية د- الفيزيائية

7- أنشئت الدواوين في عهد الخليفة

أ- عمر بن الخطاب رضي الله عنه ب- ابي بكر الصديق رضي الله عنه ج- علي بن ابي طالب رضي الله عنه
د- عثمان بن عفان رضي الله عنه

8- يحدث الصيف في شمال الكرة الأرضية عندما تعامد اشعة الشمس على

أ- مدار السرطان ب- مدار الجدي ج- خط الاستواء د- درب الثبانة

9- تنقسم اليابسة الى

أ- سبع كتل كبرى ب- ثمان كتل كبرى ج- تسع كتل كبرى د- خمس كتل كبرى

10 يغطي الماء من مساحة سطح الأرض

أ- 71% ب- 72% ج- 29% د- 30%

السؤال الثاني :

ضعي علامة صح امام العبارة الصحيحة وخطا امام العبارة الخاطئة مما يأتي

1- من مكونات المجموعة الشمسية أجسام كوكبية مثل الكويكبات ()

2- من الخصائص المشتركة للمجموعة الشمسية تدور حول محورها ()

3- أكبر كواكب المجموعة الشمسية حجما هو المشتري ()

4- شكل الأرض كامل الاستدارة ()

5- يمتد محور الأرض القطبي من الشمال الى الجنوب ()

6- من فوائد تنظيم الوقت الحد من التوتر والقلق ()

7- تعني رؤية 2030 بتحقيق شخصية وطنية تحرص على التخطيط ()

8- تحديد الأعمال بدون الزمن ()

9- وضع جميع الأعمال اليومية المهمة وغير المهمة ()

10- من أمثلة العمارة الإسلامية بناء السدود والجسور ()

السؤال الثالث :

أ- فصري مما يأتي :

1- العناية بعلم التاريخ ؟

.....

2- تعاقب الليل والنهار

.....

3- أننا لا نشعر بحركة دوران الأرض

.....

ب- اكتب المصطلح المناسب مما يأتي :

- 1- المرتفعات والمنخفضات التي على سطح الأرض (.....)
- 2- تفاعل المجموعات البشرية مع البيئات المحيطة بهم (.....)
- 3- نقل الرسائل بين الخيفة وولاية الأقاليم (.....)

ج- عددي اثنان فقط مما يأتي :

- 1- العلوم الشرعية
- 1- 2-
- 2- حركات الأرض
- 1- 2-
- 3- المحيطات التي تحيط بقارة آسيا
- 1- 2-
- 4- خصائص خطوط الطول
- 1- 2-

السؤال الرابع

أ- أكمل الفراغات التالية بما يناسبها:

- 1- الكواكب القريبة من الشمس شديدة
- 2- الكواكب البعيدة من الشمس شديدة
- 3- أصغر كواكب المجموعة الشمسية حجما
- 4- يحل فصل الربيع في نصف الأرض الشمالي ويقابله في نصف الأرض الجنوبي
- 5- يساعدنا التخطيط على ويحقق لنا مجالا للاستمتاع بالوقت عندما جيدا .



ب-صنفي المنجزات حسب علومها في الجدول الاتي: (علم الفلك ، علم الرياضيات ، علم الطب ، علم الصيدلة ، علم الكيمياء)

المنجزات	علومها
1-بناء المراصد	
2-اختراع الصفر	
3-بناء المستشفيات	
4-اختراع أدوات طبية	
5-تقنية المعادن وعمليات التقطير	

ج- صححي العبارات الخاطئة التي تحتها خط :

1	<u>لا أستمع بوقتي عندما أخطط جيداً</u>
2	أول بيت وضع للناس <u>المسجد الأقصى</u> في مكة المكرمة
3	قسمت دول العالم إلى سبع وعشرون منطقة زمنية
4	اقتصرت الزراعة في البلاد الإسلامية على <u>محصول واحد</u>
5	<u>الوزارة</u> سجل يدون فيه الاعمال والأموال المتعلقة بالدولة
6	<u>التخطيط</u> يزيد من التوتر والقلق

أنتهت الأسئلة أمنيائي لكن بالتوفيق /

نموذج الإجابة

15

السؤال الأول / اختار الإجابة الصحيحة فيما يلي بوضع دائرة حولها:

1	الأساس الأول للحضارة الإسلامية وأصلها الذي اعتمدت عليه :	أ	الأساس الديني	ب	الأساس اللغوي	ج	الأساس العلمي
2	من فوائد خطوط الطول ودوائر العرض تحديد الموقع وتحديد :	أ	الارتفاع و الانخفاض	ب	الزمن و المناخ	ج	المسافة و السرعة
3	الحوار الذي يجري بين أبناء الوطن لمناقشة القضايا التي تفيد الوطن هو الحوار :	أ	التربوي	ب	الرياضي	ج	الوطني
4	هم الجند الذين يعتمد عليهم الخليفة في حفظ الأمن ليلاً :	أ	العسس	ب	الشرطة	ج	الجنود
5	أول رائد فضاء مسلم عربي الأمير :	أ	خالد بن سعود	ب	سلطان بن سلمان	ج	سلمان بن فهد
6	يعد المسلمون أول من أدخل السكر في تحلية بعض :	أ	المأكولات	ب	المشروبات	ج	الأدوية
7	اعتنى المسلمون بعلم الفلك وذلك لارتباطه بالعلوم :	أ	الشرعية	ب	العربية	ج	الطبيعية
8	من فوائد الحوار :	أ	فهم الجانب المظلم	ب	فهم الآراء الأخرى	ج	فهم الأشياء القديمة
9	العوامل التي تسهم في قيام الحضارات المناخ و :	أ	الغابات و الصحاري	ب	السهول و الجبال	ج	الموقع و التضاريس
10	بني الصينيين سور الصين العظيم من أجل عدوهم الشرس :	أ	المغول	ب	الفرس	ج	الروم
11	ترتيب الأرض من حيث القرب من الشمس :	أ	الثاني	ب	الثالث	ج	الأول
12	يسهم التخطيط في بناء الشخصية الوطنية والتي تعد من أهداف رؤية :	أ	2032	ب	2031	ج	2030
13	عدد خطوط الطول :	أ	360 خطاً	ب	180 خطاً	ج	270 خطاً
14	من نتائج حركة الأرض حول الشمس :	أ	الفصول الأربعة	ب	اختلاف الزمن	ج	انحراف الاجسام
15	قسمت الأرض الى مناطق حرارية وفقاً لاختلاف زاوية :	أ	انحراف الرياح	ب	اشعة الشمس	ج	ميلان الارض

تابع الأسئلة في الصفحة التالية



15

السؤال الثاني/ ضع علامة (√) أمام العبارة الصحيحة وعلامة (x) أمام العبارة غير الصحيحة:

1. استفاد المسلمون من علوم الحضارات القديمة	()
2. اهتم علم التفسير بمعاني آيات القرآن الكريم	()
3. اقتصرَت الزراعة في البلاد الإسلامية على محصول واحد	()
4. بناء المسلمين المدن الإسلامية لأغراض عسكرية فقط	()
5. ارتبط الفن الإسلامي بالدين الإسلامي ارتباطاً وثيقاً	()
6. الكواكب القريبة للشمس شديدة الحرارة بعكس الكواكب البعيدة منها	()
7. شكل الأرض كامل الاستدارة لأن أبعاده متساوية	()
8. خطوط الطول ودوائر العرض شبكة حقيقته ترسم على سطح الأرض	()
9. لا نشعر بحركة الأرض لأنها تدور وفق نظام محكم دقيق	()
10. تغمر مياه المحيطات أغلب مساحة سطح الكرة الأرضية	()
11. الناجحون في حياتهم لا يخططون	()
12. رفع الصوت يساعد على قبول الرأي الآخر	()
13. من أسس نجاح الحوار تحديد الموضوع للحوار والهدف منه	()
14. في القرآن الكريم آيات تدل على ثقافة الحوار في الإسلام	()
15. إنجاز الأعمال في وقتها من فوائد تنظيم الوقت	()

تابع الأسئلة في الصفحة التالية



الرقم	المصطلح	الرقم	الجملة
1	التبانة	٨	وضعوا أسس علم الرياضيات فاستخدموا الترقيم واخترعوا الصفر.
2	الأجسام الكونية	٥	مدن صغيرة محصنة تحتوى على أماكن لإقامة و المرافق العامة
3	الوقت	٧	تفاعل مجموعات البشرية مع البيئة المحيطة بهم
4	التوازن	١	تنتمي مجموعتنا الشمسية إلى مجرة درب
5	القلاع و الحصون	٢	تعد الكويكبات والشهب والنيازك والمذنبات من
6	الحوار	٣	يقوم التخطيط على أساس تنظيم
7	الحضارة	٤	تنظيم الوقت بين الدراسة والأسرة يحقق
8	المسلمون	٦	تبادل الحديث بين طرفين أو أكثر في قضية محددة يطلق عليه بـ

السؤال الرابع / للأرض حركتان هما :

2

1.

2.

انتهت الأسئلة .. مع تمنياتي لكم بالتوفيق والسداد ..

معلم المادة :
مهند محمد الطويرقي