

(( تقويم مهارات الصف الثاني الفترة الأولى ( الفترة الدراسية الثانية ) ١٤٤٧ هـ ))

اسم الطالب / ة ..... الصف: .....

( ١٠ درجات )

\* السؤال الأول : ( أ ) اختاري الإجابة الصحيحة :

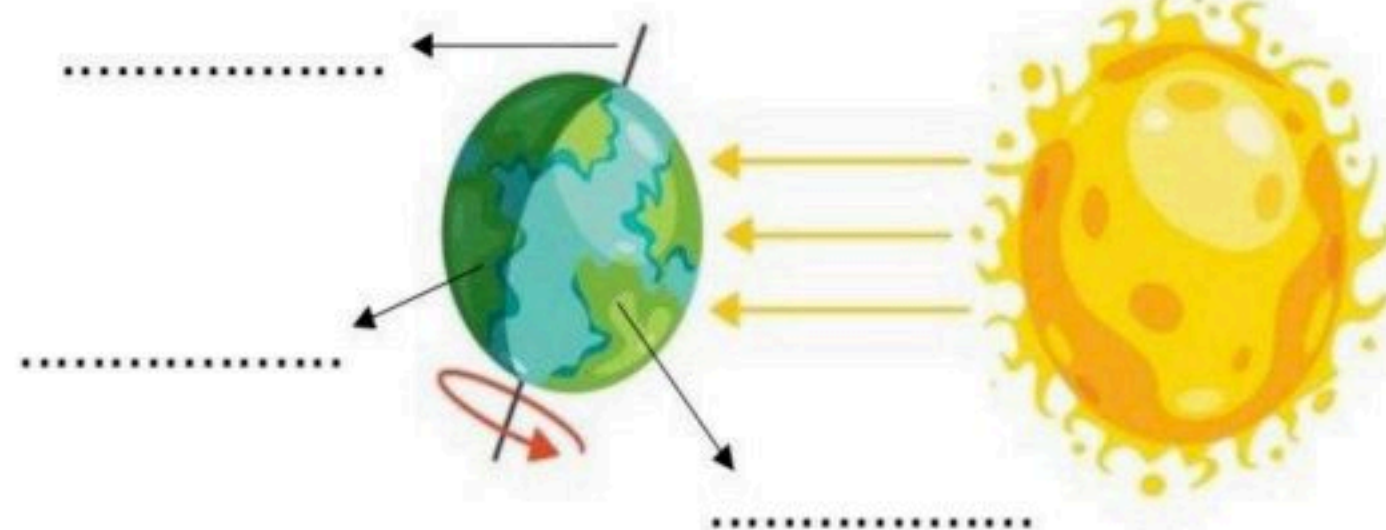
١ - فصل يتغير فيه لون ورق الشجر ويتساقط :			
الصيف	الخريف	الشتاء	الربيع
٢- تحتاج الأرض لتدور حول الشمس :			
يوم	أسبوع	شهر	سنة
٣- جسم في الفضاء يتكون من غازات ساخنة متوهجة :			
الأرض	النجم	الغبار	الكوكب
٤- فصل ترتفع فيه درجة الحرارة .....			
الخريف	الصيف	الشتاء	الربيع
٥- أقرب الكواكب الى الشمس ...			
زحل	المريخ	الأرض	المشتري
٦ - جسم كروي ضخم يتحرك حول الشمس ...			
القمر	الكوكب	النجم	الشمس
٧- أي مما يلي من الكواكب الخارجية :			
عطارد	زحل	الأرض	المريخ

ب ) - أضع كل كلمة في مكانها المناسب :

النهار

الليل

المحور





# نموذج الإجابة

المملكة العربية السعودية  
وزارة التعليم  
إدارة التعليم بمنطقة .....  
مدرسة .....

(( تقويم مهارات الصف الثاني الفترة الأولى ( الفترة الدراسية الثانية ) ١٤٤٧ هـ ))

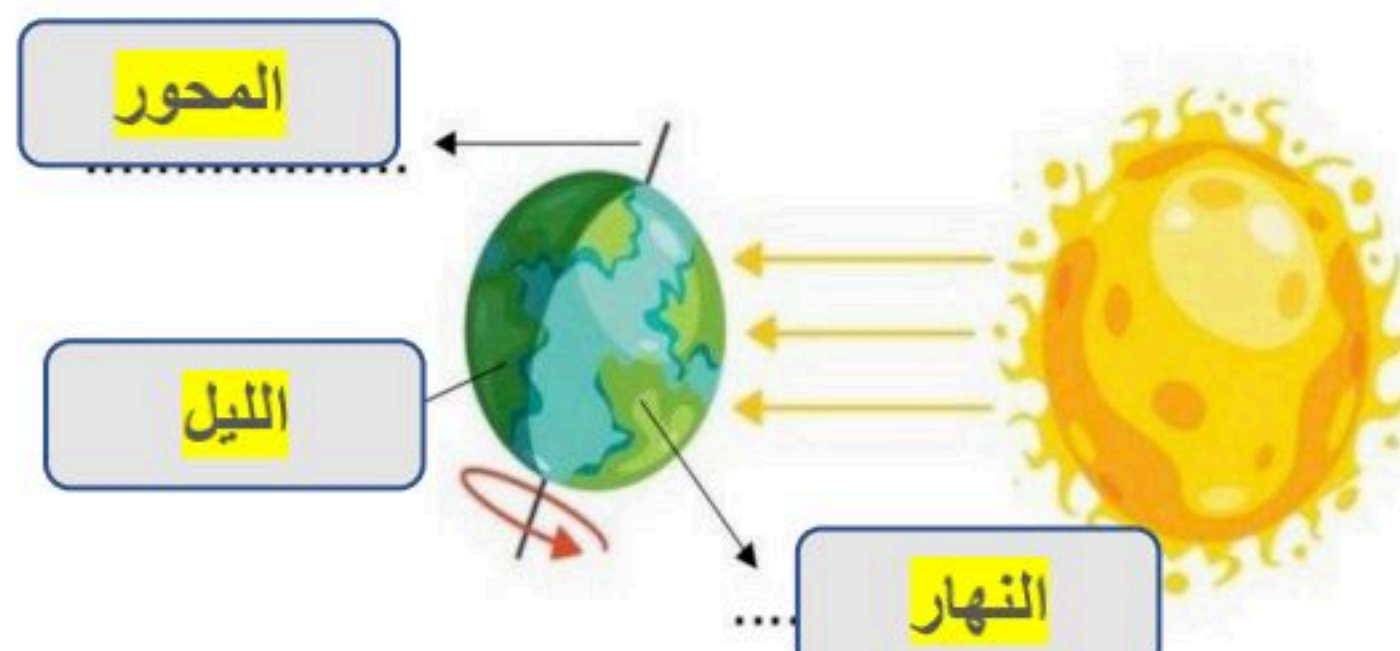
اسم الطالب / ة ..... ((نموذج إجابة)) ..... الصف: .....

( ١٠ درجات )

\* السؤال الأول : أ) اختاري الإجابة الصحيحة :

١ - فصل يتغير فيه لون ورق الشجر ويتساقط :			
الصيف	الخريف	الشتاء	الربيع
٢- تحتاج الأرض لتدور حول الشمس :			
يوم	أسبوع	شهر	سنة
٣- جسم في الفضاء يتكون من غازات ساخنة متوهجة :			
الأرض	النجم	الغبار	الكوكب
٤- فصل ترتفع فيه درجة الحرارة .....			
الخريف	الصيف	الشتاء	الربيع
٥- أقرب الكواكب الى الشمس ...			
زحل	المريخ	عطارد	المشتري
٦ - جسم كروي ضخم يتحرك حول الشمس ...			
القمر	الكوكب	النجم	الشمس
٧- أي مما يلي من الكواكب الخارجية :			
عطارد	زحل	الأرض	المريخ

ب) - أضع كل كلمة في مكانها المناسب :





يتعاقب الليل والنهار بسبب دوران الارض :

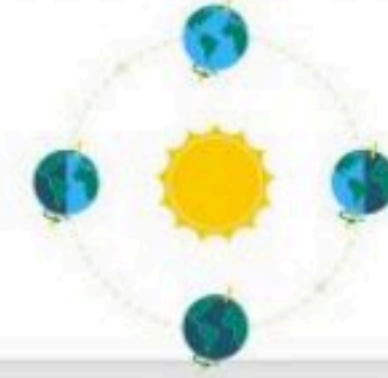
1 تحدث الفصول الاربعة بسبب دوران الارض:

أتقن   
لم يتقن



حول محورها

حول الشمس



حول الشمس

حول محورها

2 ممّ يتكوّن النظام الشمسي؟

أتقن   
لم يتقن




أتقن   
لم يتقن

3 أضع الكلمات في مكانها المناسب

صباحاً

ظهراً

عصراً



.....



.....



.....

أتقن   
لم يتقن


أتقن   
لم يتقن

4 رتب أطوار القمر:



5 وصل كل صورة بالفصل المناسب لها

أتقن   
لم يتقن



أنتهت الاسئلة



فصل الخريف

فصل الصيف

فصل الربيع

فصل الشتاء

# نموذج الإجابة

تقويم مادة : العلوم الصف : الثاني الابتدائي  
الفصل الدراسي الثاني - الفترة الاولى

يتعاقب الليل والنهار بسبب دوران الارض :

تحدث الفصول الاربعة بسبب دوران الارض :

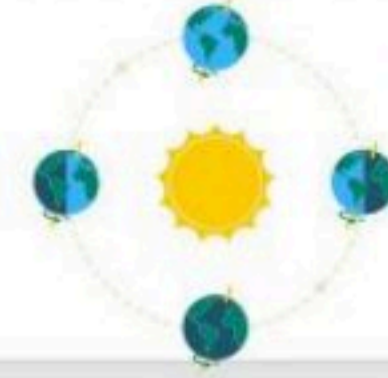
1

أتقن   
لم يتقن



حول محورها

حول الشمس



حول الشمس

حول محورها

مَمَّ يتكوّن النظام الشمسي؟

2

أتقن   
لم يتقن



أتقن   
لم يتقن

أضع الكلمات في مكانها المناسب

3

صباحاً

ظهراً

عصراً



عصراً



ظهراً




صباحاً

أتقن   
لم يتقن

أتقن   
لم يتقن

رتب أطوار القمر:

4



أتقن   
لم يتقن

وصل كل صورة بالفصل المناسب لها

5



أنتهت الاسئلة



فصل الخريف

فصل الصيف

فصل الربيع

فصل الشتاء

قياس مهارات مادة العلوم الفترة الثالثة للصف الثاني الابتدائي - الفصل الدراسي الثاني

اسم الطالب/ة : ..... الصف : .....

● ذكر سبب حدوث الليل والنهار - سبب حدوث الفصول الأربعة

● أكتب السبب في الظاهرة التي تحدث حسب الشكل :

٢- حدوث الفصول الأربعة

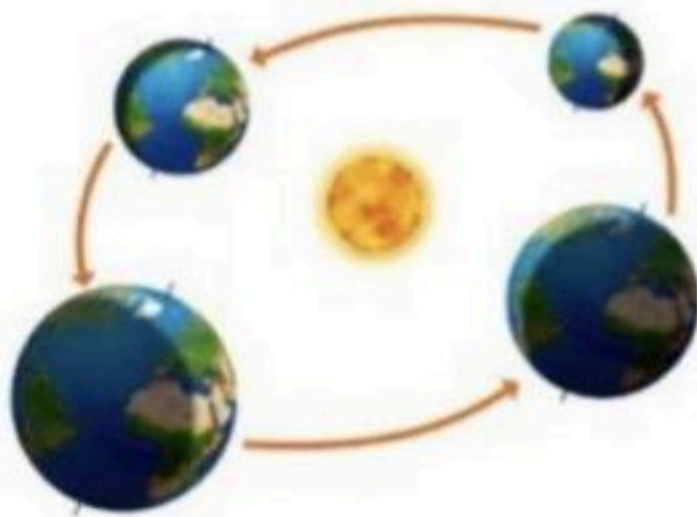
١- تعاقب الليل والنهار



ميل الأرض أثناء دورانها حول .....

دوران الأرض حول .....

● اختر الإجابة الصحيحة :




1- سبب حدوث الليل و النهار :

( دوران الأرض حول محورها - دوران الأرض حول الشمس )

2- سبب حدوث الفصول الأربعة :

( دوران الأرض حول محورها - دوران الأرض حول الشمس )

- ترتيب أطوار القمر من خلال الصور  
❖ أرتب أطوار القمر حسب بداية ظهورها




.....

.....

.....

.....

- تعدد مكونات النظام الشمسي  
❖ ضعي دائرة على كوكب الأرض في الرسم أمامك :



- ❖ أكملني بمساعدة الرسم السابق يتكون النظام الشمسي من :

.....  
.....  
.....

معلمة المادة / عائشة أبو حكمة

**١/ أملئ الفراغات التالية بالكلمات المناسبة :**

المحور - مدار - دوران الأرض

١/ يتعاقب الليل والنهار بسبب ..... حول محورها كل ٢٤ ساعة

٢/ تدور الأرض حول خط وهمي يسمى .....

٣/ المسار الذي تتبعه الأرض في الدوران حول الشمس يسمى .....

**٢/ ضعي دائرة حول الإجابة الصحيحة :**

أ / ينتج عن دوران الأرض حول نفسها :

○ الفصول الأربعة ○ الليل والنهار

ب / تدور الأرض حول محورها كل :

○ ٢٤ ساعة ○ سنة ○ شهر

**٣/ ضعي الكلمات التالية في مكانها المناسب لتوضيح حركة الشمس في السماء**

( تغيب - منتصف - ترتفع )



١) عندما يحل المساء فإن الشمس ..... في السماء



٢) في وقت الظهر ترى الشمس ..... في السماء



٣) في الصباح يبدو لنا أن الشمس ..... في السماء

**٤/ ضعي كل كلمة مما يلي في مكانها المناسب**

الصيف – الشتاء – الربيع – الخريف

- ١- يحدث البسات الشتوي في فصل .....
- ٢- أكثر فصول السنة حرارة فصل .....
- ٣- تتفتح الأزهار وتخضر الأشجار في فصل .....
- ٤- تساقط أوراق الأشجار في فصل .....
- ٥- يطول النهار ويقصر الليل في فصل .....
- ٦- يطول الليل ويقصر النهار في فصل .....

**٥/ ارسمي دائرة حول الإجابة الصحيحة :**

- ١- سبب حدوث الفصول الأربعة :
  - دوران الأرض حول محورها
  - ميلان محور الأرض أثناء دورانها حول الشمس
  - دوران الأرض حول القمر
- ٢- ينتج عن دوران الأرض حول الشمس وميلان محورها :
  - تعاقب الليل والنهار
  - حدوث الفصول الأربعة
  - جميع ما سبق
- ٣- كل فصل من الفصول الأربعة :
  - ٣ أشهر
  - ٤ أشهر

**٦/رتبي أطوار القمر بالتسلسل حسب بداية ظهورها :**

هلال	تربيع آخر	تربيع أول	بدر
<input type="checkbox"/>	<input type="checkbox"/>	<input type="checkbox"/>	<input type="checkbox"/>

**٧ /ضعي علامة صح أمام العبارة الصحيحة وعلامة خطأ أمام العبارة الخاطئة :**

- ١- الشمس هي مصدر الضوء والحرارة على سطح الأرض ( )
- ٢- الشمس والكواكب الثمانية وأقمارها مكونات النظام الشمسي ( )
- ٣- تعتبر الشمس أقرب النجوم إلى سطح الأرض ( )
- ٤- نستطيع العيش على كوكب آخر غير الأرض. ( )
- ٥- عدد الكواكب التي تدور حول الشمس في النظام الشمسي ثمانية كواكب ( )
- ٦- الشمس مهمة لجميع الكائنات الحية على سطح الأرض ( )

**من مكونات النظام الشمسي :**

- ١- .....
- ٢- .....

**٨/ قارني بين خواص المادتين الصلبتين باستخدام الكلمات المناسبة لقراءة الصور :**

<input type="radio"/> قابل للتشكيل <input type="radio"/> متماسك	<input type="radio"/> ناعم <input type="radio"/> خشن	<input type="radio"/> لين <input type="radio"/> قاسي	 <b>حجر</b>
<input type="radio"/> قابل للتشكيل <input type="radio"/> متماسك	<input type="radio"/> ناعم <input type="radio"/> خشن	<input type="radio"/> لين <input type="radio"/> قاسي	 <b>صلاصال</b>

**٩/ صلي كل صورة بما يناسبها من خصائص :**



أسفنج بحري

طويلة ورفيعة



صلاصال

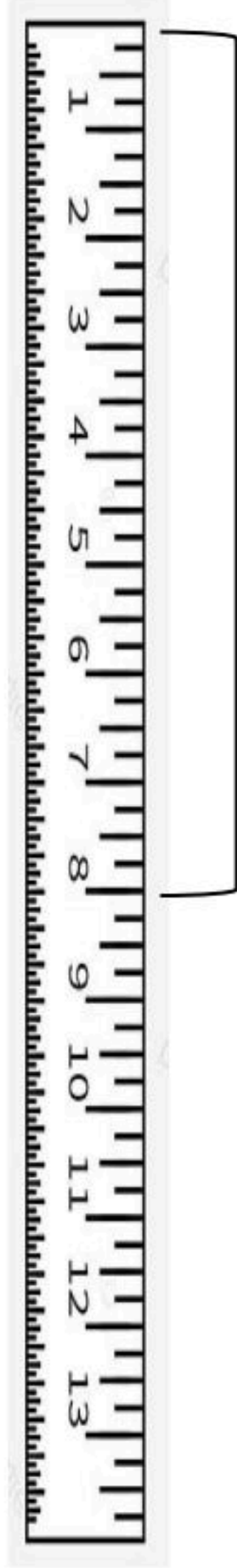
فيه فجوات



خيوط ملونة

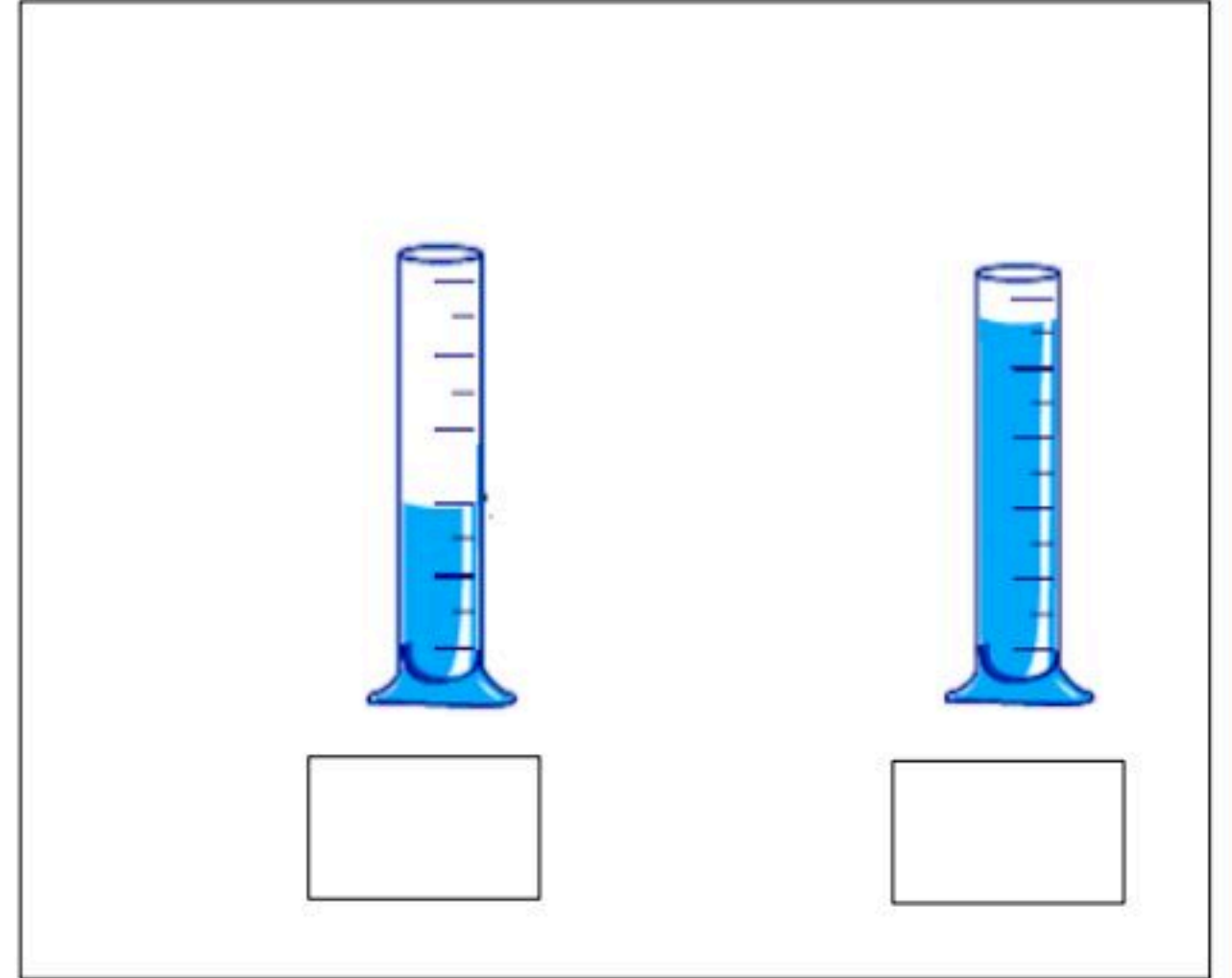
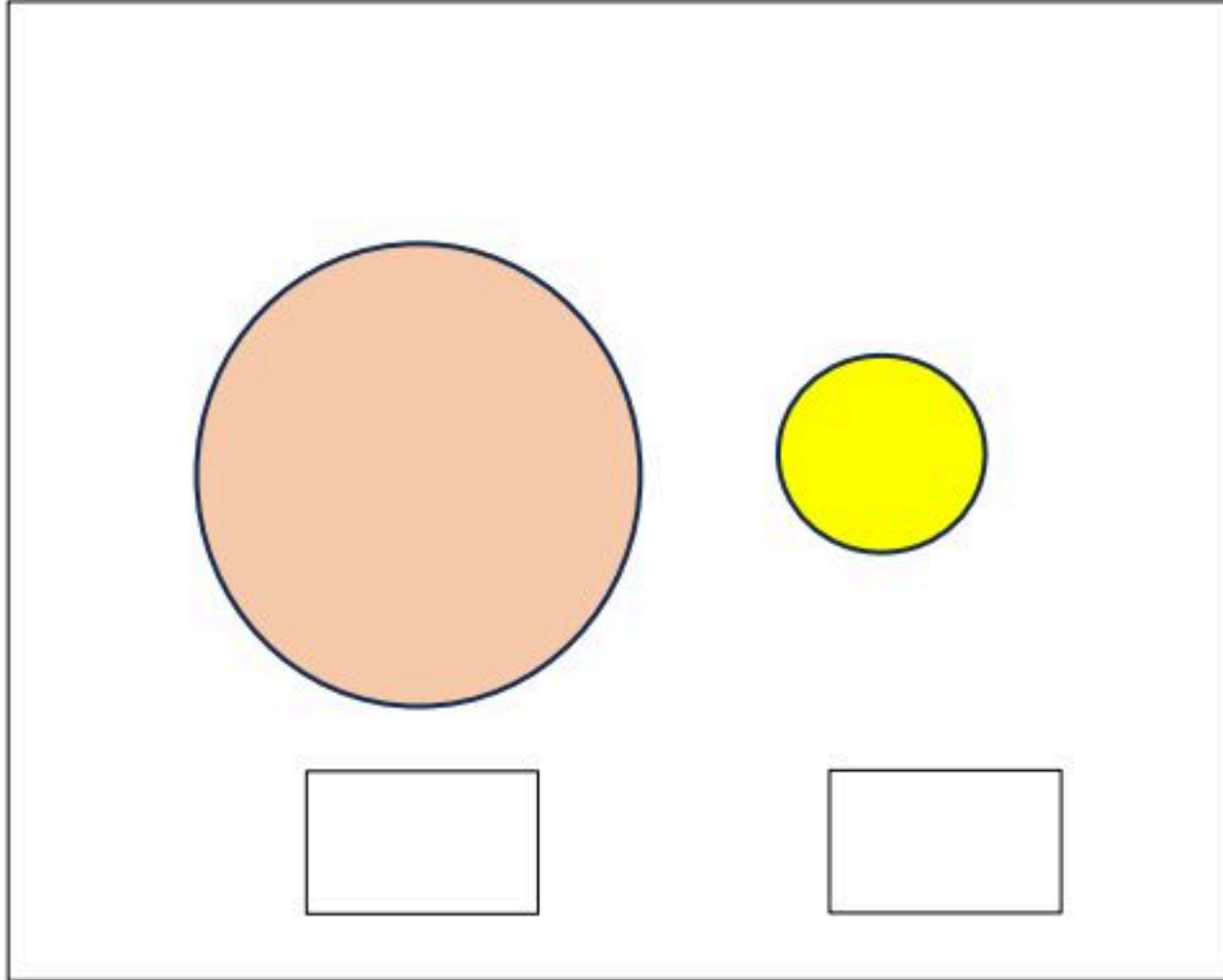
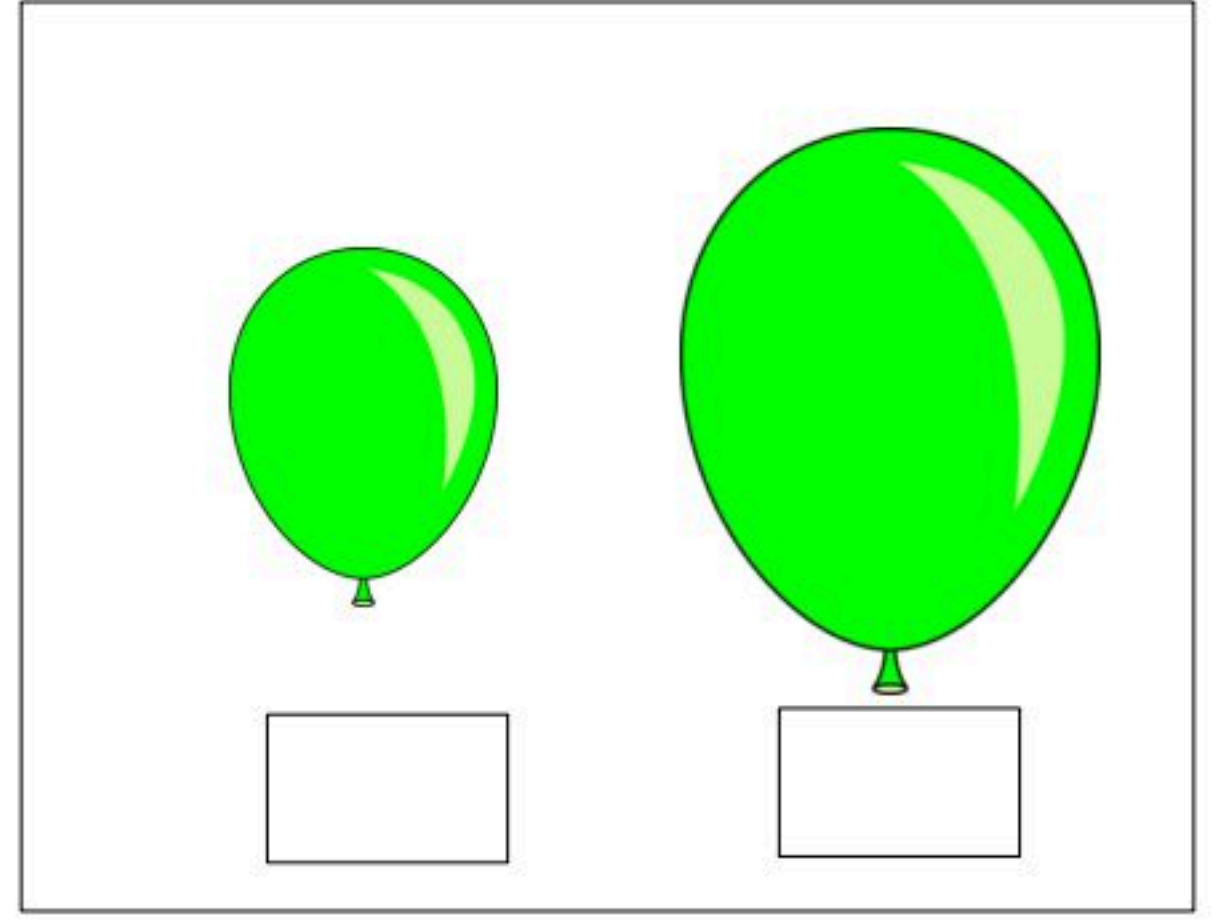

قابل للتشكيل

١٠ / قيسي طول الكتاب باستخدام المسطرة :



طول الكتاب .....  
.....




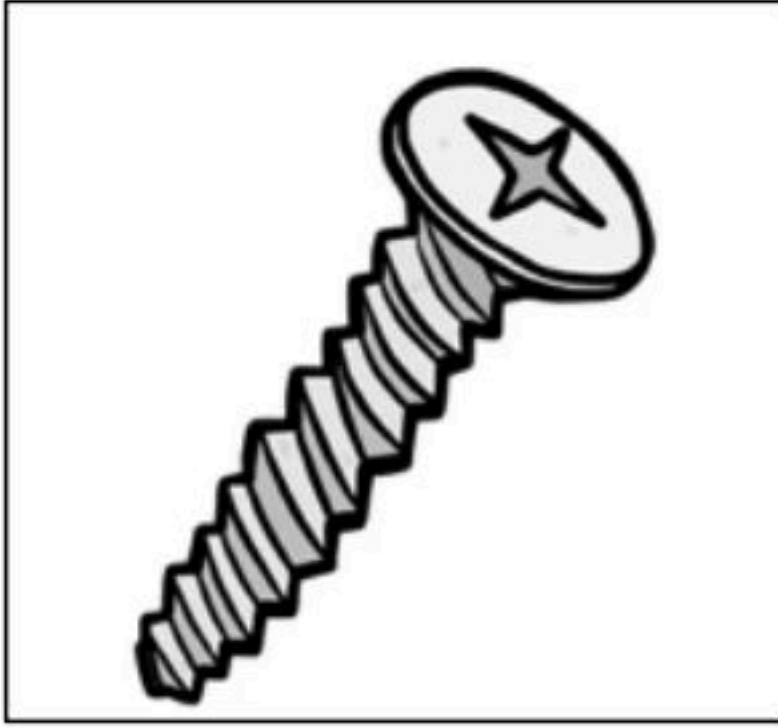
**١١ / ضع إشارة صح في المربع المناسب :**



١٢ / لوني الدوائر التي تحتوي على:

● التغيير الكيميائي باللون الأحمر

● التغيير الفيزيائي باللون الأزرق



### ١٣/ ارسمي دائرة حول الإجابة الصحيحة :

١-يؤثر الولد على الجسم بالصورة التي أمامك بقوة :



-الدفع

-السحب

٢-القوى التي تسبب سقوط الأجسام وسحبها إلى الأرض :

-الجاذبية الأرضية

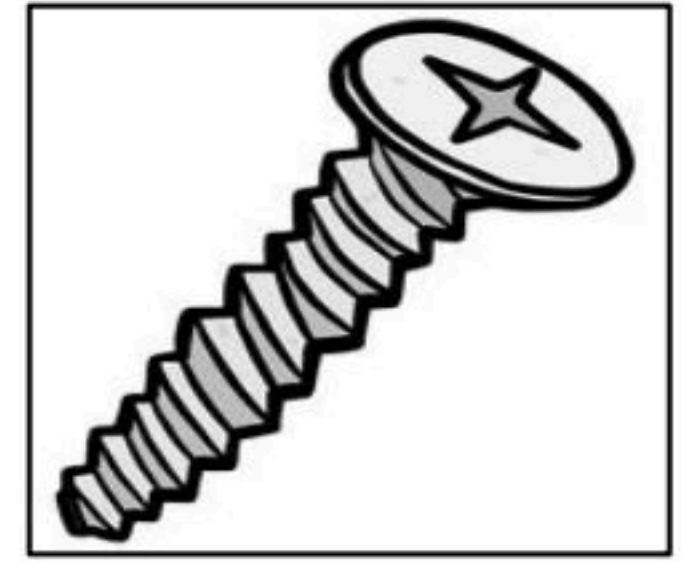
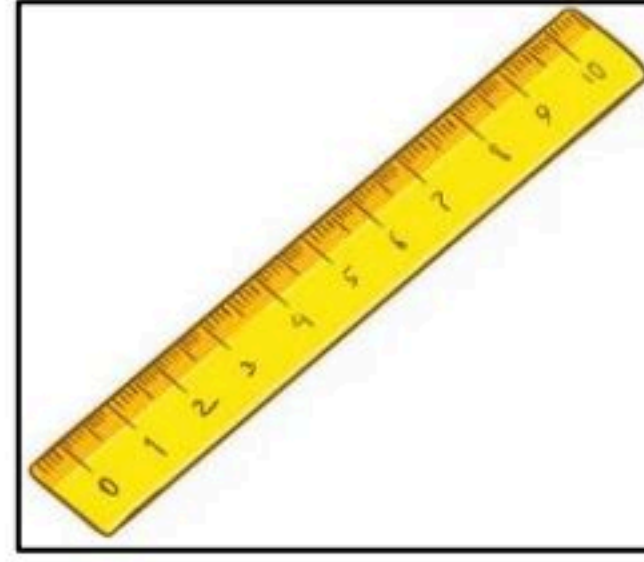


-الأحتكاك

٣-القوى التي تبطئ الأجسام وتوقفها :


-السحب

-الأحتكاك

١٤ / ضع إشارة صح تحت الأجسام التي يجذبها المغناطيس :



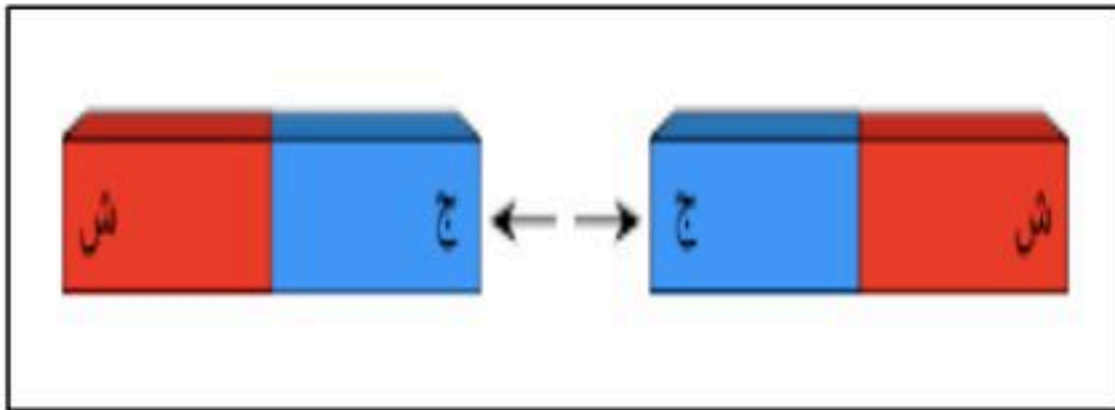
١٥/ أحدد قطبي المغناطيس مستعينة بالصورة :



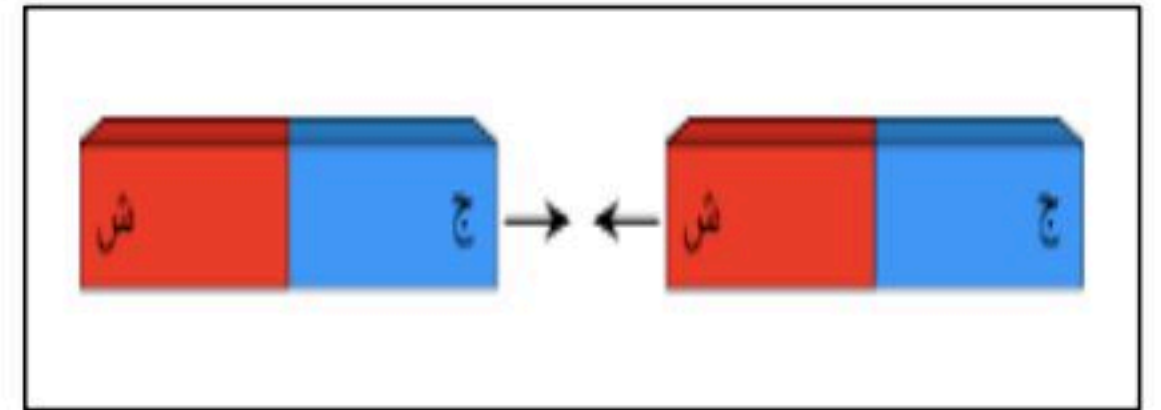
قطب .....

قطب .....

١٦/ من خلال الصور التالية أستنتج ماذا يحدث ( تنافر - تجاذب )



.....



.....

## ١٧/ أرسم دائرة حول الإجابة الصحيحة :

١- أحد أشكال الطاقة تغير حالة المواد :

- القوة


- الحركة

- الحرارة

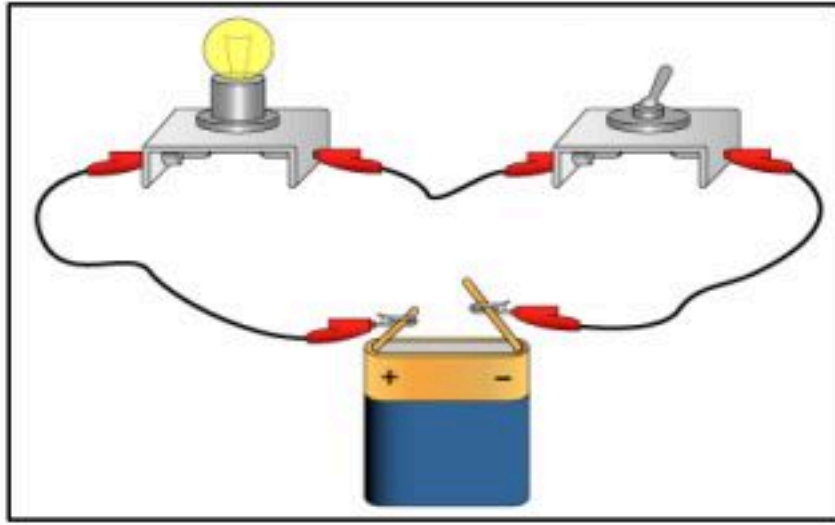
٢- الجهاز المستخدم لقياس درجة الحرارة :



٣- المقياس الذي يوضح أعلى درجة حرارة :



١٨/ أصل كل صورة بالكلمة المناسبة :

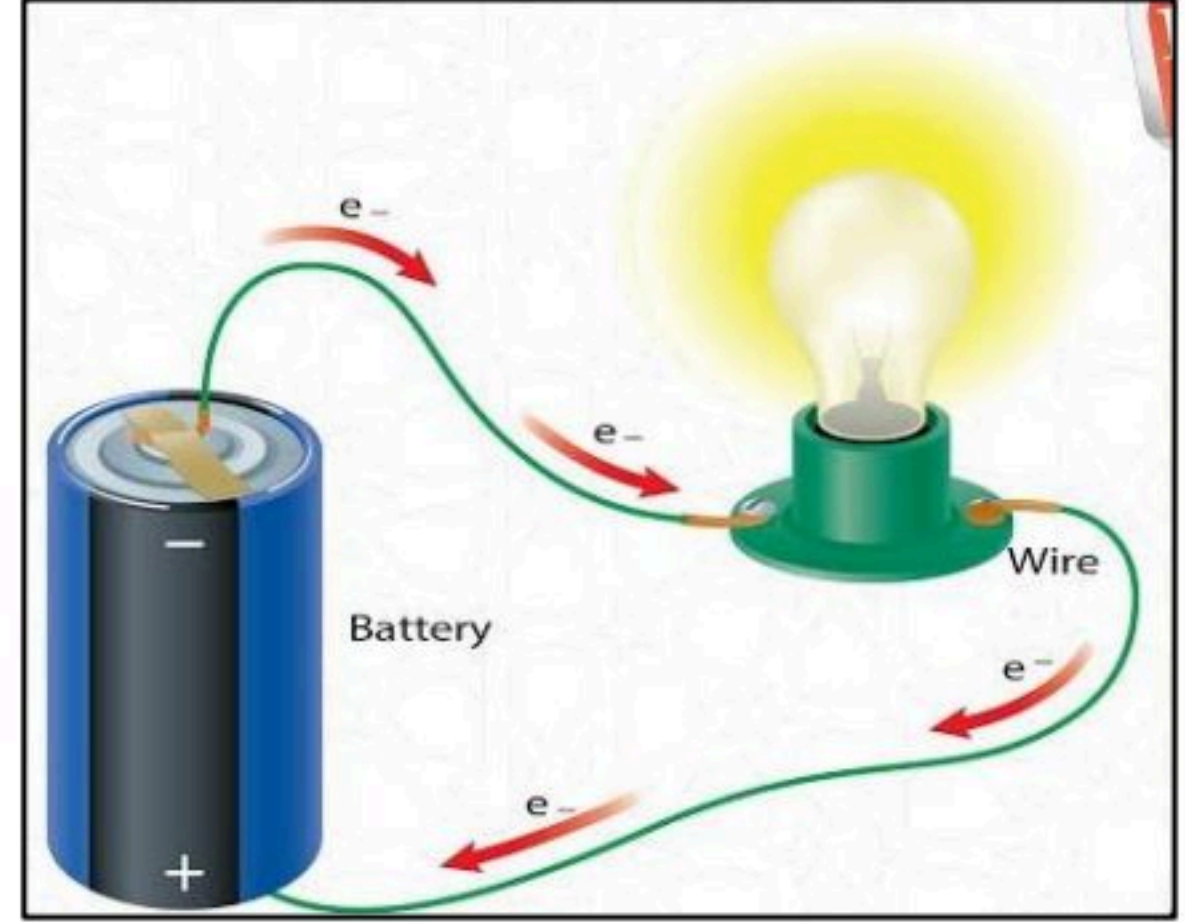



**١٩ / أذكرى بعض استخدامات الكهرباء :**

- ١- .....
- ٢ .....
- ٣ .....

٢٠/ أكمل الجمل باستخدام الكلمات التالية :

مغلقة - مفتوحة - يضيء - لا يضيء



الدائرة الكهربائية .....

المصباح الكهربائي .....

الدائرة الكهربائية .....

المصباح الكهربائي .....