

اختبار مادة الرياضيات للصف الأول الابتدائي (الفترة 2 - الفصل الدراسي الثاني 1447 هـ)

| | | | |
|------------|-------|------|-------------|
| اسم الطالب | | الصف | أول / |
|------------|-------|------|-------------|

9

السؤال 1



أ اكتب العدد في صورة آحاد وعشرات :

1 ٧٥ آحادًا = آحادٍ و عَشْرَاتٍ .

2 ٩٢ آحادًا = آحادٍ و عَشْرَاتٍ .

ب اكتب العدد بطرائق مختلفة :

| عَشْرَاتٍ | آحادٍ |
|-----------|-------|
| | |


| عَشْرَاتٍ | آحادٍ |
|---|---|
|  |  |

..... آحادٍ و عَشْرَاتٍ

ج أحوط 10 أشياء ، وأقدر العدد ، ثم أعد لأجد العدد الحقيقي :

التقدير:

العدد الحقيقي:



د اكتب < أو > أو = في ○ :

7 ٨٢ ○ ٨٦

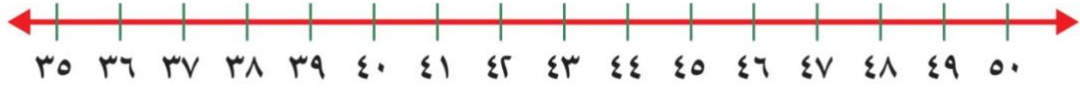
6 ٣٧ ○ ٣٧

5 ٨٥ ○ ٦٥

اقلب الورقة

6

السؤال 2



أ اكتب العدد الذي يلي مباشرة :

8 37 ، 9 39 ، 10 41 ،

ب اكتب العدد الذي يسبق مباشرة :

11 36 ، 12 50 ، 13 46 ،

5

السؤال 3

أ ارتب الأشياء من الأقصر إلى الأطول ، وأكتب الأرقام 1 أو 2 أو 3 مبتدئاً بالأقصر :



14

.....

.....

.....

ب أحوط الشيء الأخف :



16



15

ج أحوط الشيء الذي سعته أقل :



18



17